



جامعة البصرة
كلية الادارة والاقتصاد
قسم العلوم المالية والمصرفية
اسئلة الامتحان النهائي
الفصل الثاني - الدور
للعام الدراسي 2022-2023



المادة : اللغة العربية المرحلة : الاولى التاريخ : / / 2023/ الزمن : ساعتان

ملاحظة : اجب عن اربعة اسئلة فقط

السؤال الاول : (12,5 درجات)

ذكر الفرق بين الجملتين الاتيتين:

1. في ذمتي لأقولن الحق.
2. يمين الله لأدافعن عن وطني.

السؤال الثاني: (12,5 درجات)

اعرب ما تحته خط إعراباً مفصلاً:

1. قال تعالى: ((فصبرٌ جميلٌ والله المستعان على ما تصفون))
2. قال تعالى: ((وكان الله غفوراً رحيماً))

السؤال الثالث: (12,5 درجات)

مثل لما يأتي في جمل تامة:

1. مصدر نائب عن فعله دال على الثبوت.
2. نعت مقطوع لافادة المدح.
3. لفظ شعر بالقسم استعمل لغير القسم.
4. خبر محذوف وجوبا.
5. فعل ناقص يفيد التحويل.

السؤال الرابع: (12,5 درجات)

لم تبدأ قصيدة الفرزدق التي مدح بها الامام علي بن الحسين (عليه السلام) بمقدمة غزلية، علل ذلك واستشهد بأربعة أبيات منها.

السؤال الخامس: (12,5 درجات)

للمتنبي غزل جميل يستهل به قصائده، اذكر مميزات هذا الغزل واستشهد بأربعة أبيات منه.

**** مع تمنياتنا لكم بالنجاح ****

أ.د. منتظر فاضل سعد
رئيس القسم

أ.د. صباح عبدالكريم مهدي
مدرس المادة



ملاحظة : الاجابة عن خمسة اسئلة فقط وتوزع الدرجات بالتساوي

س1 : املا الفراغات التالية :

1. لتغيير اسم الملف أو المجلد يتم تحديده ومن لوحة المفاتيح يتم الضغط على زر..... ويكتب الاسم الجديد .
2. لاستعادة كافة الملفات والمجلدات المحذوفة من سلة المحذوفات يتم النقر فوق استعادة كافة العناصر من شريط.....
3. لقص الملفات والمجلدات يستخدم الاختصار من لوحة المفاتيح .
4. يتكون شريط واجهة المستخدم الرئيسي من و.....
5. لإنشاء مستند فارغ جديد يستخدم الاختصار..... من لوحة المفاتيح.

س2 : اختر رمز الاجابة الصحيحة :

1. يحتوي شريط العنوان على ما يلي:
 - أ- اسم البرنامج.
 - ب- اسم المستند .
 - ج- شريط ادوات الوصول السريع .
 - د- كل ما ذكر صحيح .
2. وهي المنطقة البيضاء التي يتم فيها كتابة النصوص وإدراج الصور والجداول والاشكال والرسوم :
 - أ- الدفتر.
 - ب- نافذة المستند .
 - ج- الملف .
 - د- لا شيء مما ذكر .
3. يوجد مجلد سهولة الوصول في :
 - أ- مجلد البرامج الملحقة.
 - ب- لوحة التحكم .
 - ج- شريط المهام .
 - د- كل ما ذكر صحيح .
4. لفتح مستند مخزون سابقاً يستخدم الاختصار :
 - أ- (Ctrl+ O) .
 - ب- (Ctrl+ A) .
 - ج- (Ctrl+ S) .
 - د- (Ctrl+ Z) .
5. وهي عبارة عن شريط افقي وعمودي للتحكم بعرض المستند طويلاً وعرضياً :
 - أ- المسطرة الافقية والعمودية .
 - ب- شريط المساعدة .
 - ج- جزء التنقل .
 - د- أشرطة التدرج .

س3 : أ- ما هي محتويات شريط المعلومات في برنامج مايكروسوفت وورد 2010 ؟

ب- ما هي الاساسيات اللازمة لبدء الكتابة في المستند (عدد خمس فقط) ؟

س4 : أ- عرف لوحة التحكم مع توضيح اربع من اهم الايقونات الموجودة فيها بالتفصيل ؟

ب- ما هي الخطوات اللازمة لحفظ المستند بتنسيقات اخرى Save As ؟

س5 : أ- عرف البرامج الملحقة وما هي طريقة استدعائها مع توضيح ثلاث برامج منها بالتفصيل ؟

ب- ما هي الخطوات المتبعة لترتيب نوافذ Windows ؟

س6 : أ- ما المقصود بعملية نسخ الملف أو المجلد؟ مع ذكر طريقتين بالتفصيل لتنفيذ امر النسخ ؟

ب- ما هي طرق حذف الملف أو المجلد ؟

مع تمنياتي لكم بالنجاح

جامعة البصرة

كلية الادارة والاقتصاد

قسم العلوم المالية والمصرفية

الدراسات الصباحية والمسائية



المرحلة : الاولى

المادة : حقوق الانسان

التاريخ : / / ٢٠٢٣

الوقت : ساعتان

أسئلة الامتحان النهائي /الكورس الثاني/ للعام الدراسي ٢٠٢٢/٢٠٢٣

ملاحظة : الاجابة على اربعة اسئلة فقط (توزع الدرجات بالتساوي).....

س١: ضع علامة صح او خطأ امام العبارات التالية مع تصحيح الخطأ ان وجد:

- ١- يلعب العدل دورا مهما في اقامة النظام في المجتمع اذ يحكم سلوك الفرد وروابطهم الاجتماعية وتتولى الدولة بما لديها من سلطة اجبار الافراد على اتباعه ولو بالقوة .
- ٢- حقوق الانسان لا يمكن انتزاعها فليس من حق احد ان يحرم شخصا اخر من حقوق الانسان حتى لو لم تعترف بها قوانين بلده او عندما تنتهكها تلك القوانين .
- ٣- حقوق الانسان فكرة حديثة نسبيا ظهرت في الفترة ما بين الحرب العالميتين الاولى والثانية.
- ٤- وفق تعاليم مدرسة القانون الوضعي فان حقوق الانسان هي حقوق مطلقة ويستطيع صاحبها الاستفادة منها وممارستها دون وساطة او مطالبة شخص اخر
- ٥- ان مساهمة الفرد في الحياة السياسية يعني ابتهاجا للأسلوب الديمقراطي في الحكم ومساهمته تعتبر دليل على استبدادية نظام الحكم فيها .

س٢: املأ الفراغات التالية

١. الاقلية يقصد بها.....
٢. التشريع هو.....
٣. يقوم الحق في حرية اعتناق الدين على ثلاث ركائز هي و..... و.....
٤. الدستور هو.....
٥. القانون الدولي الانساني هو

س٣: التعصب لغة هو عدم قبول الحق عند ظهور الدليل بناء على ميل لجهة او طرف او جماعة او مذهب او فكر سياسي او طائفي. ناقش ذلك

س٤: ما المقصود بضمانات حقوق الانسان؟ عدد هذه الضمانات على الصعيدين الوطني والدولي، مع شرح واحدة منها.

س٥: اجب عن فرعين فقط

ا/ حق الحياة من اولى الحقوق الاساسية واهمها وبعده تأتي سائر الحقوق وضح ذلك.

ب/ عدد اهم خصائص ومميزات حقوق الانسان في الاسلام مع شرح واحدة منها بالتفصيل

ج/ وضح ماهية الحقوق السياسية التي تمنحها الدول لمواطنيها ويكفلها الدستور، وما هي الخصائص التي تتمتع بها هذه الحقوق.

مع تمنياتي لكم بالنجاح

رئيس القسم


مدرس المادة

مدرس المادة

أ.د منتظر فاضل البطاط

أ.م.د حسين موسى

م.م ندى مهدي



المرحلة : الأولى
المادة : مبادئ الاقتصاد الجزئي
التاريخ : 2023/ /
الوقت : ساعتين



جامعة البصرة
كلية الإدارة والاقتصاد
قسم العلوم المالية والمصرفية
الدراسات الصباحية والمسائية

أسئلة الامتحان النهائي الكورس الثاني الدور () للعام الدراسي 2023/2022

ملاحظة :- الإجابة عن أربعة أسئلة فقط .

س (1) ضع العلامة المناسبة امام العبارات الاتية. (12.5 درجة)

- 1- في حالة افتراض حصول زيادة في العرض من السلعة مع ثبات الطلب عليها فان الحالة التوازنية الناتجة بسبب هذا التغير تتسم بارتفاع الاسعار بالمقارنة مع الحالة التوازنية السابقة.
- 2 - من الافتراضات الاساسية في تحليل سلوك المستهلك وفق نظرية المنفعة الكمية هو عدم امكانية قياس المنفعة المتحققة كميًا.
- 3 - عندما يتغير سعر السلعة بنسبة اقل من نسبة تغير الكمية المطلوبة منها فهذا يعني ان الطلب على هذه السلعة يكون كبير المرونة.
- 4 - اذا كان معامل مرونة الطلب الدخلية على السلعة اقل من واحد عدد صحيح فهذا يعني ان السلعة ضرورية بالنسبة للمستهلك.
- 5 - تعني مرحلة ثبات الغلة هي المرحلة التي يتزايد فيها الناتج الكلي من السلع و الخدمات.
- 6 - يشير فائض المستهلك الى الفرق بين المبلغ الذي يكون الفرد مستعداً لدفعه والمبلغ الذي يدفعه فعلاً للحصول على السلعة.
- 7 - عندما يكون الناتج الحدي متساوياً مع الناتج المتوسط، فإن الناتج المتوسط يكون عند ادنى مستوى له.
- 8 - العرض عديم المرونة يعني عدم استجابة الكمية المعروضة للتغير النسبي في سعر السلعة.

- س (2) أ- اذا علمت ان طلب السوق على السلع الزراعية غير مرن ، هل يؤدي انخفاض الناتج الى زيادة او انخفاض دخل الفلاحين ؟ و لماذا ؟ (6 درجة)
- ب- وضح العلاقة بين المنفعة الحدية والمنفعة الكلية وفق تفسير نظرية المنفعة الكمية، ثم مثل هذه العلاقة بيانياً؟. (6.5 درجة)

س (3) أ- حدد مع الرسم البياني كيف يتحقق توازن المستهلك باستخدام طريقة منحنيات السواء، اذا علمت بان هناك سلعتين فقط هما الدجاج وسعره (5000) دينار للكيلو و السمك وسعره (8000) دينار للكيلو، في ظل دخل نقدي للمستهلك مقداره (500000) دينار. (6.5 درجة)

ب- تختلف السلع من حيث درجة مرونة عرضها بسبب تأثير بعض العوامل، المطلوب وضح هذه العوامل.

(6 درجة)

س٤) أ- احسب المرونة اذا علمت بأن ارتفاع السعر بنسبة 7% أدى الى انخفاض الكمية بنسبة 12%، ومحددأ نوع المرونة . (6 درجة)

ب- اذا علمت ان البيانات المعروضة في الجدول التالي تمثل احتمالات السعر والكمية المطلوبة لسلعة ما، المطلوب: احسب فائض المستهلك.(6.5 درجة) .

السعر	25	20	15	10	5
الكمية	1	2	3	4	5

س٥) اذا توفرت لديك البيانات المعروضة في الجدول التالي عن عدد العمال و الانتاج الكلي في احدى المصانع وكما يأتي:

عدد العمال	النتاج الكلي
0	0
1	3
2	8
3	12
4	15
5	17
6	17
7	16
8	13

المطلوب حساب الاتي :- أ- الناتج المتوسط للعمل .(4 درجة)

ب- الناتج الحدي للعمل .(4 درجة)

ج- رسم بياني يوضح العلاقة بين انواع الناتج .(4.5 درجة)

مع تمنياتنا لكم بالنجاح

أ. د منتظر فاضل سعد
رئيس القسم

أ.د احمد جاسم محمد
مدرس المادة

م.د هادي عبد الواحد جيايد
مدرس المادة



جمهورية العراق
وزارة التعليم العالي والبحث العلمي
جامعة البصرة
كلية الإدارة والاقتصاد - قسم العلوم المالية والمحاسبية



أسئلة الامتحان النهائي للدراسات الصباحية والمسائية - تكورس الثاني للعام الدراسي 2022 - 2023 - الدور (الأول)
العادة : امساء 2 المرحلة : الاولى التاريخ 14 / 6 / 2023 الزمن : 2 ساعة

ملاحظة : الاجابة عن اربعة اسئلة فقط .

س/1 اختر الاجابة الصحيحة مما يأتي: (12.5 درجة)

1. اذا كان معامل الارتباط يساوي (-1) فبدل ذلك ان هناك ارتباط

a. عكسي قوي b. عكسي تام c. عكسي ضعيف d. غير ذلك

2. عندما يكون $\sum_{i=1}^5 |Y_i - \bar{Y}| = 12$ فان الانحراف المتوسط يساوي

a. 3.2 b. 2.4 c. 1.2 d. غير ذلك

3. يستفاد من لمقارنة اداء طئب معين في مواد مختلفة

a. الدرجة المعيارية b. المدى c. الانحراف المعياري d. غير ذلك

4. - طئب حصل على درجة 70 بمادة الاحصاء وكان مجموع الدرجات لخمس مواد كان يدرسها الطالب هو 300 والدرجة المعيارية تساوي 0.5 فان الانحراف المعياري يساوي

a. 10 b. 20 c. 30 d. غير ذلك

5. اذا كان $\sum_{i=1}^{10} (Y_i - \bar{Y})^2 = 36$ وكان الوسط الحسابي يساوي 5 فان معامل الاختلاف

a. 30% b. 35% c. 50% d. غير ذلك

س/2 اذا توفرت لديك البيانات التالية : $Y_i : 5, 4, 6, 7, 8, 10, 9$ (12.5 درجة)

جد : 1- التباين 2- الانحراف المعياري 3- الانحراف المتوسط 4- معامل الاختلاف 5- الدرجة المعيارية

س/3 من جدول التوزيع التكراري الاتي: (12.5 درجة)

الفئات	4-2	6-4	8-6	10-8	المجموع
التكرار f_i	5	6	X	5	22

جد : 1- طبعة X 2- التباين 3- الانحراف المعياري 4- الانحراف المتوسط 5- المدى

س/4 لنفترض ان لدينا عينة من ست أسر اعطينا البيانات التالية عن المستوى التعليمي للزوج وللزوجة فيها حسب

تسلسل ورودها. والمطلوب : حساب معامل الارتباط بين مستوى تعليم الزوج X ومستوى تعليم الزوجة Y .

(12.5 درجة)

وتقدير مدى قوة العلاقة بينهما.

Y	ابتدائية	بكالوريوس	دكتوراه	ثتوية	دبلوم	ماجستير
X	ثتوية	دبلوم	ماجستير	ابتدائية	بكالوريوس	دكتوراه

(12.5 درجة)


س/5 اذا توفرت لديك البيانات التالية :

$Y_i : 8, 7, 4, 6, 5$

$X_i : 5, 6, 3, 7, 4$

احسب معامل الارتباط البسيط بيرسون بين المتغيرين X و Y ثم حدد نوع وقوة العلاقة بينهما.


مع تمنياتنا لكم بنجاح



رئيس القسم
أ. د. منتظر فاضل سعد



مدرس المادة
أ. د. ريسان عبدالامام



مدرس المادة
أ. ساهرة حسين زين



أ. د. ريسان عبدالامام

المادة : إدارة الاعمال

المرحلة : الاولى

التاريخ : 2023 / 6 /

الزمن : ساعتان



جامعة البصرة

كلية الادارة والاقتصاد

قسم العلوم المالية والمصرفية

الدراسات الصباحية والمسائية

أسئلة الامتحان النهائي الكورس الثاني / الدور

ملاحظة : الإجابة عن اربعة أسئلة فقط (توزع الدرجات بالتساوي)

س1: أجب عما يأتي :

1. تعد نظرية الشبكة الإدارية واحدة من اهم النظريات السلوكية في القيادة تكلم عنها بالتفصيل معززاً اجابتك بالرسم ؟
 2. (لايمكن للمنظمة ان تبقى في هيكل تنظيمي واحد طيلة دورة حياتها مختلفة المراحل) ناقش هذه العبارة بالتفصيل ؟
- س2: املأ الفراغات التالية بما يناسبها :
- 1- هي نقل او تحويل صلاحيات أو سلطات جزئية الى شخص في مستوى إداري ادنى
 - 2- هو نظام يوضح المهام والعلاقات بين وحدات التنظيم و روابط الاتصال بينها.
 - 3- يسمى بتجميع وتركيز سلطات اتخاذ القرار في المستوى الأعلى من الإدارة .
 - 4- هي مخطط بياني يمثل الهيكل التنظيمي الرسمي.
 - 5- الهيكل..... يحتوي على مستويات إدارية كثيرة ونطاق إشراف ضيق .
- س3 : تكلم بالتفصيل عن القيادة التبادلية والقيادة التحويلية ؟ ثم وضح أي منهما تواجه التحديات الإدارية ؟ مع بيان خصائص القيادة التحويلية ؟
- س4 :لمعرفة كيفية تصميم المنظمات يتطلب الامر الالمام بمكونات او اجزاء المنظمة الاساسية وكيفية عمل وترابط هذه الاجزاء وتأثير كل جزء في التصميم, وضح ذلك معززاً اجابتك بالرسم؟
- س5: هناك مجموعة من الصفات التي توضح اهم الفروقات بين القائد والمدير , بين هذه الفروقات من حيث المقارنة بينهما ؟

مدرسوا المادة


رئيس القسم

أ.د. منتظر فاضل سعد

م.م. علاء ناصر داود

م.م. دعاء شهيد حبيب

م. ميادة كاظم نتوش



المادة : مبادئ المحاسبة
المرحلة : الاولى
الوقت : ساعتان
التاريخ : 16/1 2023



جامعة البصرة
كلية الإدارة والاقتصاد
قسم العلوم المالية والمصرفية
الدراسات الصباحية والمسائية

اسئلة الامتحانات النهائية للكورس الثاني / الدور (الاول) للعام الدراسي 2022 - 2023

ملاحظة: الاجابة عن اربعة اسئلة فقط ((توزع الدرجات بالتساوي)) .

س1/ اجب عن الاتي :

ا- ماذا يقصد بالخصم؟ وماهي اهم انواعه؟ وما الفرق بينهما وضح ذلك بالتفصيل؟
ب- عرف ميزان المراجعة , وماهي اهم انواعه؟ اذكرها بالتفصيل .

س2/ اجب عن الاتي :

1- 8/5 اشترى التاجر محمد بضاعة بمبلغ 12,000,000 دينار بالأجل من التاجر سعيد بتاريخ 8/7 تبين ان هناك بضاعة تالفة بمبلغ 3,000,000 دينار تم الاتفاق على ارجاعها ,

// تسجيل قيود اليومية في دفاتر المشتري والبايع .

2- 2021/4/5 استلم التاجر زيد كمبيالة من شركة النور بمبلغ 9,000,000 دينار تستحق الدفع بتاريخ 2021/7/1 حيث قام التاجر بتاريخ 2021 /5/1 بخصم الكمبيالة لدى مصرف الرافدين مقابل عمولة تحصيل 25000 دينار ومعدل خصم 2% واستلم الصافي نقدا . // تسجيل قيود اليومية في سجل التاجر زيد .

3- 2022/2/6 اشترى التاجر اسعد بضاعة من التاجر حسن بمبلغ 4,000,000 دينار بشيك وقام التاجر حسن بدفع مصاريف نقل البضاعة والبالغة 50,000 دينار نقدا .

// تسجيل قيود اليومية في دفاتر التاجر اسعد والتاجر حسن.

4- تمنح شركة الرافدين التجارية خصم كمية على المبيعات وفق النسب التالية

300,000 - 800,000 3% , 800,000 - 1,500,000 4% ما زاد عن ذلك 5% .

بتاريخ 2019/3/7 باعت الشركة بضاعة بمبلغ 5,000,000 دينار بالأجل للتاجر عمر بتاريخ 3/15 سدد التاجر عمر

الدين المترتب على بشيك

// اثبات قيد اليومية في سجلات الشركة اذا علمت ان تم الاتفاق على احتساب خصم الكمية عند الشراء .

5- بتاريخ 2022/6/1 اشترى التاجر علي بضاعة من التاجر محمود بمبلغ 6,000,000 دينار وبخصم تجاري 5% وشروط دفع 7/4 , 10/2 , ن/30 وبتاريخ 6/9 سدد التاجر المستحق عليه نقدا .

// تسجيل قيود اليومية في دفاتر المشتري والبايع

س3/ في ما يلي ارصده ظاهرة في دفاتر شركة بابل التجارية :

صندوق ؟؟؟ , مصرف 19,000,000 , بضاعة اول المدة 4,000,000 داننون 8,800,000 , خسائر بيع موجودات ثابتة 2,500,000 , اثاث 12,000,000 , ايراد عقار 10,000,000 , اجهزة 8,500,000 , مردودات المبيعات 3,500,000 , خصم مكتسب 1,000,000 , مصاريف تحصيل 800,000 , اوراق قبض ؟؟؟ , فروض 9,300,000 , مردودات المشتريات 3,200,000 , مصاريف مبيعات 250,000 , مبيعات 15,000,000 , مدينون 7,500,000 , مشتريات 25,000,000 , بضاعة اخر المدة 6,400,000 , فوائد داننة 2,000,000 , ارباح بيع موجودات ثابتة 4,500,000 , مصاريف قطع 3,000,000 اوراق دفع 5,500,000 , مصاريف احتجاج 250,000 , راس المال 45,000,000 . اذا علمت ان الصندوق واوراق القبض تعادل 25% و 15% على التوالي من راس المال

// - اعداد ميزان المراجعة بالأرصدة

س4// توفرت لديك البيانات التالية .

- 1- 2020/1/10 باعت شركة دجلة بضاعة الى التاجر علي بمبلغ 8,000,000 دينار وبخصم تجاري 15% بالأجل .
 - 2- 1/11 حرر التاجر علي الكمبيالات التالية سدادا للدين المترتب عليه :
أ- كمبيالة بمبلغ 4,000,000 دينار تستحق الدفع بتاريخ 6/1 .
ب- كمبيالة بالمبلغ المتبقي تستحق الدفع بتاريخ 8/1 .
 - 3- 1/15 اشترت الشركة بضاعة من التاجر وليد بمبلغ 10,000,000 دينار وبخصم تجاري 20% حيث ظهرت له كمبيالة التاجر علي الاولى ودفعت الباقي بشيك .
 - 4- 4/10 ارسلت الشركة كمبيالة علي الثانية الي المصرف لتحصيل قيمتها .
 - 5- 6/1 رفض التاجر علي سداد قيمة الكمبيالة الاولى حيث بلغت مصاريف الاحتجاج 300,000 دينار .
 - 6- 6/5 اتفقت الشركة مع التاجر علي علي تجديد الكمبيالة علي النحو التالي :
أ- ان يدفع مبلغ 1000,000 دينار نقدا .
ب- احتساب فوائد تأخيريه مقدارها 200,000 دينار .
ت- ان ينظم كمبيالة بالمبلغ المتبقي تستحق الدفع بتاريخ 11/1 .
- 7-8/1 استلمت الشركة صافي قيمة الكمبيالة الثانية بعد ان استقطع المصرف مصاريف تحصيل 5% من قيمة الكمبيالة المطلوب/ تسجيل قيود اليومية في دفاتر شركة دجلة والتاجر علي

س5// تمنح شركة وارث التجارية خصم كمية الي عملائها وفق النسب التالية :

لا شيء علي 1000,000 دينار الاولى

3% علي 1,000,000 دينار الثانية

5% علي 2,500,000 دينار الثالثة

7% ما زاد عن 2,500,000 دينار

- 1- بتاريخ 2022/6/1 اشترى التاجر سعد بضاعة من التاجر حيدر بمبلغ 3,000,000 دينار بخصم تجاري 5% وبشروط دفع 5/4 , 10/3 , ن/30 .
- 2- 6/2 باعت الشركة بضاعة بمبلغ 7,500,000 دينار بالأجل الي التاجر سعد .
- 3- 6/4 اشترى التاجر حيدر بضاعة من شركة وارث بمبلغ 4,500,000 دينار بالأجل .
- 4- 6/7 سدد التاجر سعد الدين المترتب بذمته الي التاجر حيدر نقدا .
- 5- 6/9 تبين انا هناك بضاعة تالفة بمبلغ 500,000 دينار قام التاجر سعد بإرجاعها الي الشركة .
- 6- 6/12 سدد التاجر حيدر الدين المترتب بذمته بشيك الي الشركة .
- 7- 6/15 سدد التاجر سعد الرصيد المتبقي بذمته نقدا .

م// تسجيل قيود اليومية اللازمة في دفاتر كل من شركة وارث والتاجر سعد علي فرض :

- 1- تم الاتفاق مع التاجر سعد علي احتساب خصم الكمية عند التسديد .
- 2- تم الاتفاق مع التاجر حيدر علي احتساب خصم الكمية عند كل عملية شراء .

رئيس القسم
أ.د. منظر فاضل سعد

أ.د. عبد الحميد
مع تمثيله اليه
م. قاسم محمد دهش

مدرس المادة
م. قاسم محمد دهش

المرحلة : الثانية
المادة : الإدارة المالية
التاريخ : / / 2023
الوقت : ساعتان



جامعة البصرة
كلية الإدارة والاقتصاد
قسم العلوم المالية والمصرفية
الدراسات الصباحية والمسائية

أسئلة امتحان الكورس الثاني للعام الدراسي 2022-2023 (الدور)

ملاحظة الإجابة عن اربعة أسئلة (الدرجات توزع بالتساوي)

س1 / تقسم مصادر التمويل المقترضة في الشركات إلى مصادر تمويل مقترضة قصيرة الأجل ومصادر تمويل مقترضة طويلة الأجل، عدد مع الشرح مصادر التمويل المقترضة قصيرة الأجل.

س2/ يعد المخزون في الشركات من الموجودات المتداولة الأكثر ربحية والاقبل سيولة وله تكاليف وتقسّم إلى أنواع رئيس وضح من خلال جدول تكاليف الاحتفاظ بالمخزون.

س3/ تدرس شركة تعديل شروط الائتمان بالبيع الاجل بتعديل فترة الائتمان من صافي 30 إلى صافي 60 يوم وتتوقع الشركة زيادة المبيعات بنسبة 25% عن المبيعات السابقة بحيث تصبح المبيعات الجديدة 2000000 دينار، علماً ان نسبة عائد المساهمة 60%، نسبة الديون المعدومة 5%، معدل العائد المطلوب 20%، هل تتفق مع الشركة بتعدل شروط الائتمان علماً أن متوسط فترة التحصيل تزداد من 30 يوم إلى 50 يوم.

س4/ اجب عن الاتي:-

- أ- وضح ما المقصود بالهيكل المالي في الشركات.
- ب- ماهو الفرق بين الهيكل المالي وهيكل رأس المال في الشركات.
- ت- وضح من خلال شكل (رسم شكل) مصادر التمويل المتاحة أمام منشأة الاعمال.

س5/ حددت الإدارة المالية في شركة التجارة والتسويق الحديثة العلاقات الاتية:

- 1- المبيعات السنوية 500000 وحدة (استعمال 50 اسبوع للسنة في الحسابات).
- 2- سعر شراء الوحدة 0.80 دينار.
- 3- تكلفة الخزن تبلغ 25% من سعر شراء البضاعة .
- 4- تكلفة الطلبية 45 دينار.
- 5- حجم المخزون الاحتياطي المرغوب به 1000 وحدة(موجود لدى الشركة منذ البداية).
- 6- فترة الانتظار لاستلام البضاعة اسبوع واحد.

المطلوب:

- 1- EOQ
- 2- N (كل كم يوم يجب عمل الطلبية)
- 3- عند (أي مستوى) من المخزون يجب (محاوة الطلب)
- 4- اذا تضاعفت المبيعات السنوية بالوحدات ماهي نسبة الزيادة في كمية الطلب الاقتصادية؟

مع تمنياتي لكم بالرفقة

رئيس القسم
أ.د. منتظر فاضل سعد

مدرس المادة
أ.م.د. محمد جاسم محمد



المادة : اساليب كمية

جامعة البصرة

المرحلة : الثانية

أسئلة الامتحان النهائي / الكورس الثاني

كلية الإدارة والاقتصاد

التاريخ: / / 2023

الدراسي 2023 / 2022

قسم العلوم المالية والمصرفية

الزمن: ساعتين

الدور ()

الدراسات الصباحية والمسائية

ملاحظة: الاجابة عن اربعة أسئلة فقط , توزع الدرجات بالتساوي .

السؤال الأول: يودع خالد مبلغا ماليا لدى احد المصارف موزعه بثلاث انواع من الحسابات (الجارية والتوفير والودائع الثابتة) فإذا علمت ان عدد الحسابات والمبالغ التي يرغب بإيداعها لدى المصرف والفائدة التي يتقاضاها لهذه الأنواع من الحسابات موضحة كما في الجدول التالي والمطلوب:-

1- الصياغة الرياضية لنموذج البرمجة الخطية الذي يعبر عن هذه المشكلة؟

2- ما الشكل المكتوب به النموذج ولماذا؟

3- تحويل النموذج الى الاشكال الاخرى؟

نوع الحساب البيان	الحساب الجاري	حساب التوفير	الودائع الثابتة	اجمالي عدد الحسابات والمبالغ المخصصة لها
عدد الحسابات	50	100	150	على الاقل 500
المبلغ المخصص	140	90	60	على الاكثر 300
سعر الفائدة %	-	%9	%10	

السؤال الثاني: / لديك نموذج البرمجة الخطية التالي والمطلوب :-

1- ما الشكل المكتوب به النموذج ولماذا؟

2- تحويل النموذج الى الاشكال الاخرى ؟

$$\text{Min } Z = 4X_1 - 3X_2 - X_3$$

S.t

$$6X_1 \geq 2$$

$$3X_1 + 2X_3 = -5$$

$$|5X_2| \leq 3$$

$$X_1, X_3 \geq 0 ; |X_2|$$

السؤال الثالث : اثبت ان نموذج البرمجة الخطية التالي يعاني من مشكلة (وجود حلول مثالية بديلة) :

$$\text{Max } Z = 10X_1 + 25X_2$$

S.t

$$2X_1 + 5X_2 \leq 50$$

$$4X_1 + 2X_2 \leq 36$$

$$X_1, X_2 \geq 0$$

السؤال الرابع : اوجد الحل الامثل لنموذج البرمجة الخطية التالي باستخدام الطريقة البيانية؟

$$\text{Max } Z = 4X_1 + 3X_2$$

S.t

$$5X_1 + 3X_2 \leq 30$$

$$2X_1 + 3X_2 \leq 21$$

$$X_1, X_2 \geq 0$$

السؤال الخامس : ضع علامة (صح) أو (خطأ) للعبارات الاتية : -

- 1- تستخدم نماذج البرمجة الخطية لحل مشاكل عملية في الإنتاج والإدارة والتسويق .
- 2- يمكن أن تكون دالة الهدف استقصاء أو استثناء في الشكل العام لنموذج البرمجة الخطية .
- 3- ان قيد عدم سالبيه المتغيرات موجود في جميع أشكال نماذج البرمجة الخطية.
- 4- يمكن تحويل نموذج البرمجة الخطية من شكل لآخر دون إجراء أية عملية رياضية تذكر.
- 5- تستخدم الطريقة البيانية لحل نماذج البرمجة الخطية مع وجود متغيرين في النموذج فأكثر.
- 6- في الطريقة البيانية لا نتعامل إلا مع الربع الأول من الشكل البياني لكي نحقق قيد عدم سالبيه المتغيرات في النموذج.

نرجو لكم التفوق والنجاح .

أ.د. منتظر فاضل سعد

رئيس القسم

د. طالب حسن

مدرس المادة

م.م سارة عباس

مدرسة المادة

العادة : تجارة إلكترونية
المرحلة : الثانية
الوقت : ساعتان
التاريخ : ٢٠٢٣/٧/١٠



جامعة البصرة
كلية الإدارة والاقتصاد
قسم العلوم المالية والمصرفية
الدراسات الصباحية والمسائية

امثلة الامتحان النهائي / الكورس الثاني/ الدور الأول/ للعام الدراسي ٢٠٢٢/٢٠٢٣

الاسم الرقم الشعبة

ملاحظة: الإجابة عن خمس أسئلة لكل سؤال ١٠ درجات. وتكون الإجابة بالقلم الجاف الأزرق والأسود فقط

السؤال الأول / اختر الإجابة الصحيحة

١. ما زالت هناك صعوبة في برمجيات التجارة الإلكترونية وتكاملها مع شبكة الانترنت حيث توجد حاجة مستمر للتطوير و تقديمها خدمات الانترنت بالإضافة لتطوير شبكات الحاسوب مما يؤدي أحياناً ؟

- أ- هدر الوقت.
- ب- لزيادة الكلفة.
- ج- فقدان المنتج.
- د- لا شيء مما ذكر.

٢. يسعى المشترون والمبايعون على حد سواء إبقاء بعض المعلومات سرية وإضافة بعض الغموض على أنشطتهم وأعمالهم المتعلقة بالتجارة من هنا ادرك الوسطاء هذه النقطة الجوهرية و فهموا دورهم؟

- أ- اتخاذ القرارات ونسب الأسعار.
- ب- الاهتمام بعدم تحديد الهوية الشخصية لكل من البائع او المشتري او كلاهما.
- ج- شراء السلع.
- د- لا شيء مما ذكر.

٣. يحتاج المشتري في التجارة الى الكثير من المعلومات اكثر من حاجة البائع الى المعلومات فالمشتري يريد معرفة؟

- أ- طرق الاتصال.
- ب- معرفة مدى جودة المنتج صلاحيته , طرق تخزينه
- ج- أسلوب نقل البضاعة.
- د- لا شيء مما ذكر.

٤. التكنولوجيا التي تتخذ الطلب وتسمح للمشتري بتجميع المنتجات التي يود شرائها لحين الانتهاء من عملية التسوق هي ؟

- أ- البرامجيات الإلكترونية.
- ب- كارتات التعينة.
- ج- سلة المشتريات الإلكترونية.
- د- لا شيء مما ذكر.

٥. قدرة الشركات في الحصول على العدد الكبير من المستخدمين الذين يستخدمون مواقع الشركة مبكراً قبل أن تبدأ الشركات بالخسارة ولا يمكن لهذه الشركات أن تحصل على هذا العدد المطلوب من الزبائن إذا لم يتوفر لديها ؟

- أ- المصادقية والقدرة على المنافسة مع الشركات الأخرى.
- ب- التواجد كنوع في الدول المضيفة.
- ج- تعينة وتغليف المنتجات.
- د- لا شيء مما ذكر.

السؤال الثاني / اجب عن الآتي بإجابات قصيرة:

١. تعد الخدمات التي يقدمها القائمين على التجارة الإلكترونية أداة لتلبية رغبات الشركات والمستهلكين والمدراء في؟

٢. عندما نتكلم عن هبة السوق الإلكترونية فأنها ليست مركزاً لتجارة أو بناية أو ما شابه ذلك بل هو؟
٣. التجارة الإلكترونية ما بين المؤسسات تمثل جميع النشاطات الداخلية للمؤسسة وغالباً تتم على شبكة داخلية للشركة وتهدف؟

٤. استمرارية توفيق نغني؟

٥. النموذج الذي ظهرت بظهور التجارة الإلكترونية؟

السؤال الثالث / اجب بصح او خطأ وصحح الخطأ أينما وجد:

١. تعد شبكات الاتصالات غير كفوة وبخاصة في مجالات شبكات الهواتف المحمولة والتي تعد من أهم المعوقات غير التقنية.

٢. ان سوق الاعمال له الدور الرئيس والمركزي في عالم الاقتصاد من حيث توفير التسهيلات في تبادل المعلومات والمنتجات والخدمات وطرق الدفع بين المشاركين.

٣. استطاعت الشركات الكبيرة ان تحصل على العدد الأكبر من الزبائن حيث تبين ان أكثر من ٥٨% من أنشطة التجارة الإلكترونية تعود للشركات الكبرى.

٤. الذين يقدمون خدمات الدعم هم مسؤولي الشحن الذين يسهمون في إنجاح العمليات بين البائع والمشتري.

٥. معظم البوابات على شبكة الانترنت هي بوابات غير تجارية هدفها التعامل مع المستخدم وتقديم المعلومة العامة والخاصة بواسطة واجهة المستخدم.

السؤال الرابع / تحتاج التجارة الإلكترونية الى مجموعة من الشروط التي ينبغي توافرها لنجاحها؟ انكرها بالتفصيل

السؤال الخامس / تتعرض التجارة الإلكترونية الى مجموعة من المخاطر، ولذلك يجب وضع بعض الحلول للسيطرة على هذه المخاطر؟ وضح ماهي الحلول المقترحة للسيطرة على مخاطر التجارة الإلكترونية بالتفصيل؟

السؤال السادس / بعد الكتالوج دليل بالمنتجات او الخدمات فمن خلاله يتعرف المشتري على المنتجات والخدمات المعروضة من قبل الشركة المصنعة؟ من خلال ذلك فارق بين الكتالوجات الورقية والإلكترونية



الأستاذ الدكتور
منتظر فاضل سعد
رئيس القسم



الأستاذ المساعد الدكتور
أحمد جابر سالم
مدرس المادة



أحمد جابر سالم
مدرس المادة



كلية الادارة والاقتصاد
قسم العلوم المالية والمصرفية
الدراسات الصباحية والمسائية
المرحلة الثانية

المادة : التسويق المصرفي
الوقت : ساعتان فقط
التاريخ : / / ٢٠٢٣

اسئلة الامتحان النهائي - الكورس الثاني
للعام الدراسي ٢٠٢٢ - ٢٠٢٣ الدور

ملاحظة : الاجابة عن اربع اسئلة فقط :

س١ : ناقش العبارات التالية بشكل مختصر :

- ١ . عدم قابلية الخدمة المصرفية للتجزئة .
- ٢ . تلازم عمليتي انتاج وتوزيع الخدمات المصرفية .
- ٣ . عدم قابلية الخدمة المصرفية للتخزين .
- ٤ . تغلب العناصر غير الملموسة على العناصر الملموسة في الخدمة المصرفية .
- ٥ . اهمية الانتشار الجغرافي للخدمة المصرفية .

س٢ : ماهي الفئات المهمة التي يخاطبها المصرف للترويج عن نفسه وما هو الهدف من مخاطبتها بالترويج ؟

س٣ : ان علاقة المصرف مع بيئته هي علاقة تبادلية يؤثر ويتأثر به ، وضح مفهوم النظام المفتوح للمصرف بالتفصيل ؟

س٤ : هناك عدة مزايا للتسويق المصرفي الالكتروني منها متعلقة بالمصارف ومنها متعلقة بالعملاء ، وضح ابرز تلك المزايا المتعلقة بالمصارف ؟

س٥ : هناك عدة تعاريف للتسويق اذكر منها تعريف التسويق المصرفي الشامل ، وبين أهم خصائص التسويق المصرفي ؟

مع تمنياتنا لكم بالتوفيق والنجاح

ا.د منتظر فاضل سعد

رئيس القسم

م.م زينب عبدالعزيز عبدالله

مدرس المادة

م.م مرتضى عبدالحسين عبدالكريم

مدرس المادة

الاجابة على أربعة أسئلة

س1/ وضح المفاهيم والمصطلحات التالية:

- 1- تغليف البيانات
- 2- وحدة البيانات
- 3- المخطط المنطقي
- 4- الوجودية
- 5- المستوى المفاهيمي

س2/ وضح الإجراءات الأساسية في مراحل إنشاء نموذج قواعد بيانات لمصرف الطيف الإسلامي.

س3/ ما المقصود بتركيب قواعد وما هو الدور الذي تلعبه ضمن إجراءات تغليف البيانات.

س4/ ما هو الهدف الأساسي من وجود قواعد البيانات, وضح بالتفصيل.

س5/ ما هو دور أنظمة إدارة قواعد البيانات؟

(مع تمنياتي لكم بالنجاح)

رئيس القسم

أ.د. منتظر فاضل البطاط

مدرس المادة

أ.م حيدر صلاح هاشم

جواب السؤال الاول

ان الغرض الاساسي من ايجاد نظام قواعد البيانات هو القيام بعملية تغليف البيانات بحيث يقوم النظام بإخفاء جميع التفاصيل عن كيفية تخزين البيانات وكيفية معالجتها عن المستخدم الخارجي, وهذا ما يطلق عليه مفهوم (تغليف البيانات).

وحدة البيانات: وهي مجموعه من المفاهيم التي يتم استخدامها لوصف تركيب قواعد البيانات وكذلك مجموعة العمليات الاساسية, وهنا يتولد لدينا مفهومين اساسيين وهما:

المخطط المنطقي: وهو عبارة عن الوصف الذي يبين قواعد البيانات من حيث عناصر البيانات والعلاقات التي بينها, اي التصميم الذي يبين الوصف لقواعد البيانات.

الوجودية: وهي عبارة عن البيانات التي يتم تخزينها في قواعد البيانات في لحظة معينة
المستوى المفاهيمي

ويشكل هذا المستوى الوسط بين المستوى الخارجي والمستوى الداخلي حيث يمثل النموذج المفاهيمي ويحتوي على وصف كامل لهيكلية قواعد البيانات التي يتم وضعها باستخدام مشرف قواعد البيانات.

جواب السؤال الثاني

خطوات بناء نموذج قواعد بيانات لأي شركة

ويتم على النحو التالي :

دراسة بيئة الشركة ومعرفة النظام القائم, ان وجد, وذلك لتحديد نوعية البيانات التي نريدها

نقل الحقائق والمعلومات التي تم جمعها وتحويلها الى بيانات يمكن الأستفاده منها في عملية بناء قواعد البيانات

القيام بتصميم قواعد البيانات (أي القدرة على استخدام البيانات المفاهيمية لقاعدة البيانات)

تطبيق التصميم (أي بناء قاعدة البيانات)

الأشراف على قاعدة البيانات

جواب السؤال الثالث

.....

تركيب قواعد البيانات: ويقصد بتركيب قواعد البيانات:

تحديد انواع البيانات

تحديد العلاقات بين الملفات في تركيب قواعد البيانات

محددات قواعد البيانات

جواب السؤال الرابع

ان الغرض الاساسي من ايجاد نظام قواعد البيانات هو القيام بعملية تغليف البيانات بحيث يقوم النظام بإخفاء جميع التفاصيل عن كيفية تخزين البيانات وكيفية معالجتها عن المستخدم الخارجي, وهذا ما يطلق عليه مفهوم (تغليف البيانات).

جواب السؤال الخامس

انظمة ادارة قواعد البيانات

وتشمل

البرامج المسؤولة عن ادارة قواعد البيانات والقيام بعملية الاستعلام

البرامج الخاصة باسترجاع البيانات من قاعدة البيانات

الاجراءات والعمليات وهي التي تحكم استخدام قواعد البيانات

.....

- س1// اجب بصح او خطأ وصحح الخطأ ان وجد.
- 1- أوراق الدفع تدرج في القوائم المالية قبل المدينون لانها اكثر قابلية للتحويل الى سيولة.
 - 2- عدم تحصيل قيمة المبيعات الآجلة: يعني تخفيضاً في المصروفات وتخفيضاً في حساب الدائون.
 - 3- الديون المشطوبة هي من العوامل التي تؤثر على رصيد المدينين بالزيادة او النقص.
 - 4- المصروفات الايرادية: وهي المصاريف التي تنفق على الموجودات الثابتة لغرض تحسين أداء هذه الموجودات او زيادة الكفاءة الإنتاجية لها.
 - 5- تعد قيمة الأنقاض من العوامل الرئيسية في احتساب قسط الاندثار السنوي.

- س2// في 2020/1/1 بلغ رصيد مخصص الديون المشكوك فيها لشركة النور التجارية مبلغ قدره 5,000 الاف دينار. ورصيد المدينين 50,000 الف دينار وخلال العام 2020 حدثت العمليات التالية:
- 1- في 3/1 باعت الشركة بضاعة بمبلغ 10,000 الاف دينار للتاجر احمد على الحساب.
 - 2- في 4/2 شطب دين تحقق في 2019/2/1 بذمة المدين حسن بمبلغ 2,500 دينار.
 - 3- في 7/1 شطب دين تحقق في 2019/6/1 بذمة المدين علاء بمبلغ 3,500 دينار.
 - 4- في 11/1 تقرر شطب 30% من الدين المترتب بذمة التاجر احمد بعد تعسر حالته المادية.
- وفي نهاية الفترة المالية قررت الشركة ان يكون مخصص الديون لمشكوك فيها بنسبة 5% من رصيد المدينون في نهاية الفترة.
- المطلوب// تسجيل القيود اليومية اللازمة للعمليات أعلاه، وبيان الأثر على ميزانية الشركة في 12/31.

- س3// بتاريخ 2018/1/2 اشترت شركة فستقة ماكينة لصناعة الايس كريم بسعر 1,000,000 مليون دينار، وبلغت مصاريف النقل والنصب التشغيل 200,000 الف دينار، وقدّر العمر الإنتاجي للماكينة بأربع سنوات، وقيمة الأنقاض 100,000 الف دينار.
- المطلوب// احتساب الاندثار السنوي للماكينة بطريقة مضاعف نسبة الاندثار، وتسجيل القيود اليومية الخاصة بالاندثار وفق الطريقة غير المباشرة وترحيلها الى الحساب المختص.

- س4// بتاريخ 2020/2/5 اشترت شركة البصرة للاستثمار مجموعة من اسهم شركة (أ) و(ب) وكالتالي:

ت	عدد الأسهم	سعر السهم/ الواحد
أ	1000	100
ب	1000	200

- بتاريخ 2020 /8/1 باعت الشركة 25% من اسهم شركة (أ) بسعر 15,000 الف دينار، و30% من اسهم (ب) بسعر 50,000 الف دينار.
 - بتاريخ 2020/12/20 استلمت الشركة مقسوم أرباح عن الأسهم التي تمتلكها وكالتالي: 4 دينار عن اسهم شركة (أ) و6 دينار عن اسهم شركة (ب).
- الطلب// تسجيل القيود اليومية اللازمة للعمليات أعلاه.

س5// بتاريخ 2018/1/1 اشترت شركة النرجس سندات قيمتها الاسمية 200,000 الف دينار، بمبلغ 190,000 الف دينار، وبفائدة سنوية 10% تدفع في 1/1 من كل سنة، وتستحق السندات بتاريخ 2020/1/1. المطلوب// تسجيل القيود اليومية اللازمة للعمليات أعلاه.

مع تمنياتنا لكم بالنجاح

رئيس القسم
أ.د. منتظر فاضل سعد

مدرس المادة
م.م سلام صدام مهر

المادة : مؤسسات مالية

أسئلة الامتحان النهائي

جامعة البصرة

المرحلة : الثانية

للعام الدراسي 2022 / 2023

كلية الإدارة والاقتصاد

التاريخ: / / 2023

الكورس الثاني

قسم العلوم المالية والمصرفية

الزمن: ساعتان

الدور ()

الدراسة الصباحية والمسائية



ملاحظة// الإجابة عن خمسة أسئلة فقط بالقلم الجاف الأزرق أو الأسود, ولكل سؤال (10 درجات)

السؤال الأول: الإجابة عن خمس مما يأتي :

- 1- ما الفرق بين التأمين وإعادة التأمين والمشاركة في التأمين ؟
- 2- ما هي خصائص البنوك التجارية مقارنة بالبنك المركزي ؟
- 3- كيف تميز المؤسسات المالية والمصرفية عن باقي المؤسسات في الاقتصاد ؟
- 4- ما هي شروط الخطر المؤمن ضده ؟
- 5- عدد عناصر أو مقومات التأمين.
- 6- عدد عناصر عقد السلم.

السؤال الثاني: الإجابة بكلمة صح أو خطأ عما يأتي:

- 1- المصارف المتخصصة مؤسسات مالية غير ودائعية.
- 2- يعد الاحتكار المصرفي من عيوب المصارف الفردية.
- 3- يعرف الفقهاء عقد السلم بأنه "بيع عاجلٌ بأجل "
- 4- تسمى الشركة القابضة أحياناً باسم الشركة الأم.
- 5- النقود القانونية إبرائية نهائية.
- 6- سميت البنوك التجارية بهذا الاسم لأنها كانت تقدم قروضاً قصيرة الأجل للتجار في بداية تأسيسها.
- 7- في بيع المزايمة يتنافس الباعة في عرض البيع بثمن أقل.
- 8- يقسم التأمين وفق القانون الانجليزي إلى التأمين ضد خطر الحياة والتأمينات العامة.
- 9- بيع المساومة لا يظهر فيه البائع رأس مال السلعة.
- 10- المضارب هو الشخص الذي يقدم المال في عقد المضاربة.

السؤال الثالث: إذا كانت % ح.ق 10% وسقف الائتمان 700 مليون دينار أكمل الجدول الآتي:

المصرف	حجم الودائع مليون دينار	ح.ق	القروض المتاحة	حصة المصرف من الائتمان	فائض السيولة
الرافدين	590				
البصرة الدولي	160				
التجاري العراقي	220				

السؤال الرابع: إذا كانت نسبة الاحتياطي القانوني 10% أكمل بيانات الجدول التالي واحسب :

- 1- الحجم الكلي للودائع في المرحلة الأخيرة 2- مقدار النقود المصرفية في المرحلة الأخيرة.
- 3- نسبة مساهمة البنوك التجارية في عرض النقد. 4- نسبة مساهمة البنك المركزي في عرض النقد

الدورة	قيمة الودائع	مبلغ ح ق	مبلغ ح ف قروض
1	10000		
2			
3			
4			
5			
6			

السؤال الخامس: أبرم تاجر 3 عقود تأمين مع 3 مؤمنين على بضاعته ضد السرقة بتاريخ 2017/12/31 تنتهي صلاحية العقود كما مبين في الجدول:

المؤمن	المبلغ	صلاحية عقود التأمين لغاية
1	15000	2019 / 9 / 10
2	13000	2018 / 8 / 25
3	12000	2020 / 3 / 3

وقد تعرضت البضاعة في 2019/1/1 لحريق أدى إلى خسارة قيمتها 10000 دينار, وقد قدرت قيمة البضاعة عند وقوع الحادث 40000 دينار, المطلوب:

1- ماهو المبلغ الذي يدفعه كل مؤمن للتاجر؟

2- ما مقدار المبلغ الذي يستلمه التاجر من المؤمنين الثلاثة؟

السؤال السادس: اختر الإجابة الصحيحة :

- يقوم البنك المركزي بتحويل الأصول الحقيقية إلى أصول نقدية عن طريق:
 - بيع الذهب في الأسواق العالمية ب- إصدار العملة الوطنية . ج- كلاهما صحيح .
 - من أدوات الائتمان قصير الأجل: أ- السندات ب- الكمبيالة ج- كلاهما صحيح.
 - عقد بين طرفين يتأخر فيه المبيع ويتقدم فيه الثمن أ- السلم ب- المزارعة ج- الاستصناع
 - المضاربة عقد بين طرفين كلاهما: أ- يقدم العمل ب- يقدم المال ج- لاشئ مما ذكر
 - البيع عقد معاوضة مالية تفيد: أ- ملك المنفعة ب- ملك العين ج- كلاهما
 - سماسرة الأوراق المالية يقومون ب: أ- شراء الأوراق المالية لحسابهم الخاص ب- التوسط بين بائعي ومشتري الأوراق المالية ج- التوسط بين بائعي ومشتري الأوراق التجارية .
 - المصرف الذي لا يتعامل مع الجمهور هو:
 - البنك المركزي ب- البنك التجاري ج- المصرف الإسلامي .
 - المصارف المملوكة من قبل شركة قابضة: أ- مصارف السلاسل ب- مصارف المجموعة ج- مصارف ذات الفروع .
 - وظيفة خلق النقود القانونية أهم وظائف:
 - البنك المركزي ب- البنوك المتخصصة ج- البنوك التجارية
 - صناديق الاستثمار التي تبيع أسهماً لتعبئة مواردها:
 - الصناديق المشتركة لسوق النقد ب- صناديق الأسهم ج- كلاهما صحيح .

مع تمنياتنا لكم بالنجاح

أ.د. منتظر فاضل سعد
رئيس القسم

أ.م.د. علي قاسم العقبي
مدرس المادة

أ.م. فايزة حسن مسجت
مدرس المادة



ملاحظة : الاجابة عن اربعة اسئلة فقط على ان يكون السؤال الخامس من ضمنها وتوزع الدرجات بالتساوي .

س1 // اذا توفر لديك جدول النقل الاتي أجب عن النقاط ادناه مستخدماً طريقة اقل الكلف :

من \ الى	QS	البصرة	سبأ	المنصور
المركز الاول	180	2	9	8
المركز الثاني	170	1	3	4
المركز الثالث	200	3	10	7
Qs=Qd		130	170	250

1. أول جهة طلب توزع عليها الكميات المعروضة هي.....
2. ان كلفة النقل الاجمالية من المركز الاول تبلغ
3. ان الكميات التي يتم نقلها الى جهة الطلب الاول (البصرة) تساوي.....
4. ان كلفة نقل الوحدة الواحدة من المركز الثالث الى شركة المنصور تساوي
5. اجمالي كلفة النقل من المركز الثالث فقط تساوي
6. ان مجمل ما يتم نقله لجهات الطلب (الشركات الثلاث) تساوي

س2 // اذا توفرت لديك المعلومات الاتية عن مجموعة أنشطة شركة المجد المتخصصة في صناعة الاثاث المكتبي:

النشاط	المسار	الوقت المستغرق (ساعة)
X ₁	1 - 2	1
X ₂	1 - 3	3
X ₃	2 - 3	5
X ₄	2 - 4	2
X ₅	3 - 4	8
X ₆	4 - 5	10
X ₇	4 - 6	10

المطلوب : رسم شبكة الاعمال وايجاد المسارات وتحديد المسار الحرج ؟

س3 // أوجد كلفة النقل الاجمالية لجدول النقل الاتي مستخدماً طريقة فوجل التقديرية :

من \ الى	QS	D ₁	D ₂	D ₃
A ₁	500	5	1	3
A ₂	100	2	4	1
A ₃	200	3	5	2
Qs=Qd		400	200	200

س4 // أوجد كلفة النقل الاجمالية لجدول النقل الاتي والخاص بأنشطة شركة النور بطريقتين :

1. طريقة الركن الشمالي الغربي ؟

2. طريقة اقل الكلف ؟

من \ الى	QS	التاجر الاول	التاجر الثاني	التاجر الثالث	التاجر الرابع
المركز الاول	70	10	8	2	11
المركز الثاني	20	3	1	4	15
المركز الثالث	50	17	9	2	20
المركز الرابع	80	13	18	5	6
Qs=Qd		50	10	60	100

س5 // اذا توفر لديك جدول النقل الاتي:

من \ الى	QS	S ₁	S ₂	S ₃
X ₁	20	5	3	9
X ₂	28	6	1	8
X ₃	54	3	4	2
Qs=Qd		24	34	44

المطلوب : 1- أوجد الحل الاولي مستخدماً طريقة الركن الشمالي الغربي ؟
2- اوجد الحل الامثل مستخدماً طريقة التنقل عبر الربعات الخالية ؟

مع تمنياتنا لكم بالنجاح

أ.د. منتظر فاضل سعد
رئيس القسم

م.م. عبدالله محمد راضي
مدرس المادة

م.م. حسن حيدر عبدالكريم
مدرس المادة

المادة: التمويل الدولي
المرحلة: الثالثة
التاريخ: / / 2023
الزمن: ساعتان



جامعة البصرة
كلية الإدارة والاقتصاد
قسم العلوم المالية والمصرفية
الدراسات الصباحية والمسائية

أسئلة الامتحان النهائي/الدور
للعام الدراسي 2023/2022

ملاحظة: 1- الاجابة عن أربعة اسئلة فقط لكل سؤال (12.5) درجة .
2- الاجابة بقلم الجاف الاسود او الازرق حصراً."

- س1 : حدد رمز الاجابة الصحيحة للجمل الاتية
1. تتكون الفقاعة المالية عندما يرتفع سعر الأصل المالي بشكل يتجاوز قيمته:-
أ. العادلة. ب. السوقية. ج. كلا الخيارين.
 2. من اسباب الازمات المالية العالمية:-
أ. العولمة المالية. ب. أسعار الصرف الثابتة. ج. كلا الخيارين.
 3. ترجع أهمية السندات الدولية عموماً إلى كونها:-
أ. مضمونة وقليلة المخاطر. ب. أداة ذات عائد مرتفع. ج. كلا الخيارين.
 4. السندات الدولية تقسم الى :-
أ. سندات اجنبية وسندات اوربية ب. سندات عالمية وسندات اجنبية. ج. كلا الخيارين.
 5. واحدة من طرق اصدار الاسهم الدولية:-
أ. عن طريق اتحاد دولي ب. عن طريق السوق الثانوية. ج. ليس أي من الخيارين.
 6. أحد أسباب (أنواع) اختلال ميزان المدفوعات:-
أ. أسباب هيكلية. ب. أسباب مالية. ج. كلا الخيارين .
 7. يمكن أن تؤدي الاستثمارات الأجنبية المباشرة في البلدان المضيفة إلى:-
أ. رفع معدلات وكفاءة التشغيل. ب. زيادة تلوث البيئة. ج. كلا الخيارين .
 8. من أهداف ميزان المدفوعات:-
أ. توفير احصاءات التجارة الخارجية. ب. قياس تدفق الموارد بين دولة واخرى. ج. كلا الخيارين
 9. يزيد الاستثمار الاجنبي غير المباشر من:-
أ. انضباط الاسواق المالية ب. الطلب على العملة المحلية. ج. كلا الخيارين
 10. ميزان المدفوعات متوازن حسابياً" حتى في حالة الاختلال بسبب :-
أ. القيد المزدوج ب. فقرة السهو والخطأ. ج. ليس اي من الخيارين.
 11. تعد من ايجابيات اسواق السندات الدولية
أ. تعدد عملات الاصدار ب. السيولة العالية. ج. كلا الخيارين.
 12. انواع الاستثمار الاجنبي غير المباشر:-
أ. الباحث عن الثروات الطبيعية ب. الباحث عن الاسواق. ج. ليس اي من الخيارين.

س 2: س :حدد الجمل الصحيحة او الخاطئة بكتابة كلمة صح او خطأ وصح الخطأ ان وجد:-

1. من مصادر الرسمية للتمويل الدولي التسهيلات المصرفية .
2. لنفترض ان العراق، قد اقرض سوريا 6 مليون دولار ، ستظهر في ميزان المدفوعات كفقرة دائن في حساب راس المال وفقرة دائن في حساب النقد الأجنبي
3. الفرق الأساسي بين البنوك التقليدية وبنوك الأوفشور هو خدمات بنك الأوفشور لا تكون متاحة لمواطني البلد الذي تعمل فيه.

4. من أسباب اختلال ميزان المدفوعات في البلدان النامية تتعلق بارتفاع الانتاجية وتقادم التكنيك والتكنولوجيا المستخدمة فيها
5. يزيد الاستثمار الاجنبي المباشر من سيولة أسواق الاوراق المالية ويحسن من مستوى الافصاح المالي للشركات
6. من اسباب الازمات المالية الدولية عدم استقرار الاقتصاد الكلي
7. من خصائص الازمات المالية الدولية التعقيد وعدم تداخل عواملها واسبابها
8. من سلبيات اسواق الاسهم الدولية عدم استمرار التنويع الذي تبحث عنه الشركات
9. الأدرج الدولي للاسهم عادة ما يكون متطلباته اكثر مقارنة مع متطلبات البورصة المحلية
10. اسهم اليانكي تصدر من قبل شركات أجنبية وتتداول في اليابان.
11. من سلبيات اسواق السندات الدولية انعدام حق المراقبة والاشراف.
12. المخاطر السياسية هي وصف لمخاطر المخاطر، التي تأتي من ممارسة الأعمال التجارية تحت ولاية حكومة أجنبية ونظامها القانوني.

س3: أ. تؤدي الأسواق المالية دورا هاما في الحياة الاقتصادية، أعرض بالتفصيل أهم الوظائف التي يمكن أن تؤديها الاسواق المالية الدولية.
ب. جرت العادة على تجزئة اسواق المال الى سوقين اشرحهما وبين الفرق بينهما.

س4: البنك الدولي هو مؤسسة مالية لجمع الودائع وتوفير الأموال عن طريق الشركات التي تقع في أكثر من بلد واحد. أجب عن ما يلي:-
أ. بين ماهي الاشكال الادارية للبنوك الدولية
ب. وضح أهم خصائص أو سمات الديون المصرفية الدولية.

س5: اعطي توضيحا" للمفاهيم الاتية.(أختر ثمان فقط)

1. تسهيلات الموردين
2. المخاطر السياسية
3. نظرية القطيع
4. مصادر التمويل الرسمية متعددة الاطراف
5. ميزان المدفوعات
6. الاستثمار الاجنبي الباحث عن الكفاءة في الاداء
7. الازمة المصرفية
8. اهمية التمويل الدولي للبلدان النامية
9. السندات الاوربية
10. نظرية الفقاعة

مع الطيب امنيائنا لكم بالنجاح و التوفيق

أ.د. منتظر فاضل البطاط
رئيس القسم

أ.م. د. عقيل عبد محمد
مدرس المادة

أ.م.د. راضي عبيد نعيمش
مدرس المادة



ملاحظة : الإجابة عن اربعة أسئلة فقط

السؤال الاول : اجب عن ما يأتي :

(12.5 درجة)

- 1- ما هو الفرق بين الانفاق الاستثماري والانفاق الجاري ؟
- 2- ما هي العوامل المحددة لهيكل التمويل ؟

السؤال الثاني :

(12.5 درجة)

إذا علمت ان شركة الفارابي ترغب في القيام بمشروع جديد بقيمة كلية \$200,000 وبمعدل عائد مطلوب 12% ولغرض توفير المال اللازم لديك مصادر تمويل موضحة في الجدول التالي :

القيمة	التمويل
50,000	المقترض
20,000	اسهم ممتازة
60,000	اسهم عادية متداولة
30,000	اسهم عادية جديدة
40,000	أرباح محتجزة

المطلوب: - حساب تكلفة الأموال لهيكل التمويل الخاص بالشركة باستخدام

المتوسط المرجح لتكلفة التمويل وهل سيكون القرار قبول او رفض المشروع اذا علمت ان :

1. الشركة أصدرت سندات تستحق بعائد لموعد الاستحقاق 13% بمعدل ضريبة 30%
2. الشركة تحصلت على قرض بمعدل فائدة 7% وتم استقطاع الفوائد مقدما عند الاقتراض وكانت نسبة الضريبة 30%
3. الشركة اصدرت اسهم ممتازة بقيمة سوقية \$40 للسهم وبتوزيعات أرباح \$6
4. بلغت تكلفة الأسهم العادية المتداولة والارباح المحتجزة 12% لكل منها
5. الشركة اصدرت اسهم عادية جديدة بسعر سوقي \$50 مع توقعها تحقيق ربحا \$4 للسهم بمعدل نمو أرباح 5% وتحمل الشركة عمولة بيع \$5 للسهم الواحد

السؤال الثالث :

(12.5 درجة)

مجموع أصول كل من الشركات A, B, C \$200,000 والربح قبل الضريبة \$8,000 لكل شركة اذا علمت ان :-

الشركة A تمويل أصولها عن طريق الأسهم بنسبة 100%

الشركة B تمويل أصولها عن طريق الأسهم بنسبة 50% والباقي عن طريق القروض

الشركة C تمويل أصولها عن طريق الأسهم بنسبة 25% والباقي عن طريق القروض

علما ان معدل الضريبة 50% ، وكانت فائدة القرض في حينها 6% ، وسعر السهم الواحد \$10

المطلوب : كيف ستؤثر السياسات التمويلية التي تستخدمها الشركة على كل من نصيب السهم من الأرباح والعائد على حقوق الملكية

(12.5 درجة)

السؤال الرابع : اختر الإجابة الصحيحة لكل مما يأتي مع اجراء العمليات الرياضية أينما وجدت

1. النقد المدفوع لتسديد السندات هو تدفق نقدي :

- أ - خارج من الأنشطة الاستثمارية
ب - خارج من الأنشطة التشغيلية
ج - خارج من الأنشطة التمويلية
د - لا شيء مما ذكر (اذكره)

2. اذا افترضنا ان لديك خيارين A,B يحصل A على عائد 15% من تكلفة الاستثمار الكليه ويحصل B على عائد بمبلغ \$4300 من تكلفة الاستثمار الكليه واذا علمت ان تكلفة الاستثمار الكليه \$30,000 ووقع الاختيار على B ستكون تكلفة الفرصة البديلة : -

- أ - \$500
ب - \$300
ج - 400
د - لا شيء مما ذكر (اذكره)

3. اذا كان $R_e = i$ هذا يعني ان اثر الرفع المالي على المشروع : -

- أ - يلعب الدور الإيجابي
ب - يلعب الدور السلبي
ج - غياب دور الرفع المالي
د - لا شيء مما ذكر (اذكره)

4. اذا كان سعر السوق للسهم الواحد \$50 وتتوقع الشركة الحصول على ربحاً \$5 وان معدل نمو النسبة المالية 7% ستكون تكلفة التمويل بالسهم العادي : -

- أ - 17%
ب - 13%
ج - 15%
د - لا شيء مما ذكر (اذكره)

5. المصروفات التي تغطي العناصر الضرورية للمحافظة على نمو المنشأة في الاجل الطويل هي : -

- أ - المصروفات التشغيلية
ب - المصروفات الرأسمالية
ج - كلا الخيارين
د - لا شيء مما ذكر (اذكره)

(12.5 درجة)

السؤال الخامس :

شركة الفارابي عرض عليها مشروعين تبلغ تكلفة الأول \$250,000 بينما تبلغ تكلفة المشروع الثاني \$350,000 والتدفقات النقدية لكل سنة موضحة بالجدول التالي :

السنة	المشروع الأول	المشروع الثاني
1	100,000	130,000
2	150,000	150,000
3	150,000	200,000
4	170,000	200,000

اذا علمت ان معدل الضريبة لكلا المشروعين هو 40% وان المشروع الثاني يحتاج لخبير فني يتقاضى اتعاب (عمولة) من الشركة 10% من أرباحها سنويا.

المطلوب: أي المشروعين ستختار اذا استخدمت فترة الاسترداد (الجمع التراكمي) في التقييم ؟

(ممنياتنا لكم بالنجاح)

رئيس القسم

مدرس المادة

أ.د. منتظر فاضل البطاط

م.م. احمد سامي الديراوي

م.د. سهام فالي

المرحلة: الثالثة
المادة: سياسات
التاريخ: / / 2023
الوقت: ساعتين



كلية الإدارة والاقتصاد
قسم العلوم المالية والمصرفية
الدراسة الصباحية والمسائية

أسئلة الامتحان النهائي الكورس الثاني

• ملاحظة/ الاجابة عن خمسة اسئلة فقط (توزع الدرجات بالتساوي).

س1/ اجب عن مايلي :

- أ- وضح مهام ومبررات استخدام الاحتياطي القانوني.
- ب- اذكر ستة من محددات عمليات السوق المفتوحة.

س2/ اجب عن مايلي (عشرة فقط)

- 1- المالية التعويضية ماذا تعني؟
- 2- نظرية التردد ماذا تعني؟
- 3- ما هو تأثير نسبة الاحتياطي القانوني في عملية خلق الودائع؟
- 4- سقف الفائدة.
- 5- لماذا تفشل الادوات الكمية وبخاصة سعر الخصم في كبح الائتمان في اوقات التضخم؟
- 6- هل يمكن للبنك المركزي رفع هوامش البيع بالتقسيط اثناء الكساد، ولماذا؟
- 7- يعد سعر الخصم غير عادل بين المصارف.
- 8- هل يمكن استخدام الادوات الكمية كـ (ادوات نوعية) وكيف؟
- 9- دافع المعاملات، المضاربة.
- 10- ما المقصود بالدخل الدائم؟
- 11- يرى كنز ان درجة دوران النقود ليست ثابتة.
- 12- لماذا يخفض سعر الصرف؟

س3/ وضح فاعلية السياسة النقدية من خلال المدارس الكلاسيكية والكنزية والنقدية في معالجة المشاكل الاقتصادية .

س4/ اجب عن مايلي:

أ- وضح من خلال المخططات الية ادوات السياسة النقدية الكمية في معالجة التقلبات الاقتصادية .
ب- وضح دور النقود في النشاط الاقتصادي لدى فريدمان مستعيناً بالشكل البياني.
س5/ وضح اراء المدارس الكلاسيكية والكنزية والنقدية في الطلب على النقود مستعيناً بالمعادلات الرياضية.

س6/ اجب عن مايلي:

أ- وضح اثر السياسة النقدية في التوازن الكلي من خلال هيكل هانز - هانس.
ب- بين اثر السياسة النقدية في ميزان المدفوعات معتمداً على المخططات.

مع دعائي لكم بالتوفيق والنجاح

أ.د منتظر فاضل سعد

رئيس القسم

أ.د نعيم صباح جراح
م.د. ازهار عبداللطيف حسين
مدرس المادة

المادة: محاسبة تكاليف
المرحلة: الثالثة
التاريخ: ٤ / ٦ / ٢٠٢٣
الزمن: ساعتان



أسئلة الامتحان النهائي
للعام الدراسي ٢٠٢٢/٢٠٢٣
الكورس الثاني (صياحي ومسائي)



جامعة البصرة
كلية الإدارة والاقتصاد
قسم العلوم المالية
والمصرفية

ملاحظة: الإجابة عن أربعة أسئلة وتوزع الدرجات بالتساوي

س١- أختار الاجابة الصحيحة نكل مما يأتي: [الاجابة عن ثمانية]

١- استعمل عناصر تكلفة العمل الثابتة على كشف الدخل في المحاسبة المالية:

- أ-المباشرة وغير المباشرة.
ب-غير المباشرة والخسائر.
ج-المباشرة والخسائر.
د-المباشر وغير المباشرة والخسائر.

٢- الأساس المناسب لتوزيع تكاليف الصيانة وفقا لطريقة التوزيع الانفرادي هي:

- أ- ساعات العمل المباشر.
ب- عدد الأجهزة.
ج- قيمة الأجهزة.
د- المساحة.

٣- يفضل توزيع الأجر غير المباشرة على أساس:

- أ- المساحة.
ب- عدد العاملين.
ج- ساعات العمل المباشرة.
د- لاشئ مما ذكر.

٤- يعتمد حساب معدل الفوائد الدائنة على:

- أ- مصادر الأموال.
ب- المظنوبات.
ج- كلا الاجابتين صحيحة.
د - كلا الاجابتين خاطئة.

٥- تستخدم نظرية مراكز التكلفة تطبقا لبدأ:

- أ- العدالة في توزيع التكاليف غير المباشرة.
ب- الاستفادة من التكاليف غير المباشرة.
ج- محاسبة المسؤولية.
د- كل ما ذكر.

٦- يمثل هامش الفائدة:

- أ- الفرق الاجناسي بين الفوائد الدائنة والفوائد المدينة.
ب - الربح الحدي الذي تحققه وحدة العملة.
ج - كلا الاجابتين صحيحة.
د - كلا الاجابتين خاطئة.

٧- اذا كانت أيام العمل في الأسبوع ٥ أيام والاستراحة اليومية ساعة واحدة، وساعات العمل اليومية ٨ ساعات، فإذا كانت ساعات العمل الفعلية ٣٣ ساعة ومعدل أجر الساعة ٢٤٠٠ دينار فإن الأجر الشئ تحمل على كشف الدخل تكون:

- أ- ٤٨٠٠.
ب- ٩٦٠٠.
ج- ٧٢٠٠.
د- لاشئ مما ذكر.

٨- تحمل أجور الساعات الاضافية بمعدل الأجر الاعتيادي لمدير قسم القروض على حساب:

- أ- مراقبة الأجور المستحقة.
ب- مراقبة تكاليف مباشرة/قروض.
ج- مراقبة تكاليف غير مباشرة.
د- مراقبة تكاليف ادارية.

٩- اذا كانت أيام العمل في الأسبوع ٦ أيام والاستراحة اليومية نصف ساعة، وساعات العمل اليومية ٦ ساعات، فإذا كانت ساعات العمل الفعلية ٣٦ ساعة فإن الفرق بينها وبين الساعات المخططة يكون:

- أ- ساعة اضافية.
ب- ٣ ساعة اضافية.
ج- ٤ ساعات ضياع غير مسموح به.
د- ٣ ساعات ضياع غير مسموح به.

س٢- البيانات التالية مستخرجة من سجلات الرواتب والأجور لقسم الودائع في أحد المصارف التجارية لشهر نيسان:

- ١- محمد مسؤول عن تدقيق حسابات العملاء في القسم بمعدل أجر ٤٠٠٠ دينار للساعة، حصل على إجازة لمدة يوم واحد ونغب عن الدوام لمدة يوم واحد وعمل ١٦٨ ساعة فعليه للشهر المذكور أعلاه.
٢- ساعات العمل اليومية ٨ ساعات، والوقت المخصص لاستراحة العاملين يبلغ ساعة واحدة يوميا.

- ٣- حصلت توقفات في العمل لأسباب غير متوقعة في جميع أقسام المصرف، بلغت مدتها خلال الشهر ١٠ ساعات.
- ٤- عند أيام الجمع والعطل خلال الشهر بلغت ٥ أيام .
- ٥- أن معدل أجره الساعة الإضافية يزيد على معدل أجره الساعة الاعتيادية بنسبة ٥٠% .
- ٦- تعالج أجور الوقت الضائع المسموح به كتكاليف غير مباشرة.
- المطلوب // حساب الأجور الشهرية المستحقة لمحمد، ثم تبويبها حسب علاقتها بوحدة التكلفة .

س ٣- فيما يلي البيانات الخاصة بتكاليف المراكز الفنية والمساعدة لأحد المصارف التجارية لشهر آذار/ ٢٠٢١:

البيان	شؤون العاملين	المخزن	حساب	تسهيلات	ودائع
معد ت.ع.م	١٨٠٠٠	١٣٣٠٠	١٢٢٠٠	٢٢٠٠٠	١٨٧٠٠
عدد العاملين	١٥	٥	١٠	٢٠	١٠
عدد الأجهزة	٣	١	٦	٢	٢
مستندات صرف المواد	١٢	-	١٠	٢٤	٢٦
ساعات العمل المباشر				١٦٠	١٤٠

المطلوب // ١- توزيع تكاليف المراكز المساعدة والإدارية وفقاً للطريقة الاجمالية.

٢- احسب حصة المراكز من تكاليف المخزن باستخدام الطريقة المفردة.

٣- احسب حصة المراكز من تكاليف المخزن باستخدام الطريقة التنازلية.

س ٤- فيما يلي الأرصدة المتوقعة لحسابات احد المصارف التجارية لثلاثة أشهر قادمة :

أولاً- إجمالي متوسط أرصدة التسهيلات ٨٣٠٠٠٠٠٠ ، متوسط الودائع ١٢٠٠٠٠٠٠٠٠ .

ثانياً-قوائد وعمولات دائنة ٥٦٣٥٧٠ .

ثالثاً- تكاليف أخرى تقسم الودائع : رواتب وأجور ٢٨٠٠٠٠٠ م. أخرى ٨٠٠٠٠٠ .

رابعاً- نسبة مخصص التسهيلات المصرفية ٣%، هامش الفائدة المتوقع ١% .

المطلوب // حساب معدل تكلفة الودائع، ومعدل صافي الربح (الخسارة) .

س ٥- فيما يلي بيانات التكاليف الخاصة بأحد المصارف التجارية للربع الثاني من عام ٢٠٢١:

البيان	فروض	الكفالات	الودائع	شؤون العاملين	الحاسبة	المجموع
التكاليف غير المباشرة	٣٣٨٠٠	٢١٧٠٠	٣٦٤٠٠	٢٧٥٠٠	٢٢٥٠٠	١٤١٩٠٠
ساعات العمل المباشرة	٢٨٠٠	١٧٠٠	٢٥٠٠	-	-	٧٠٠٠
عدد العاملين	١٠	٤	٦	١٠	٥	٣٥
عدد الأجهزة	٦	٢	٨	٤	١٠	٣٠
المساحة	٤٠	١٦	٣٠	٣٠	٢٤	١٤٠

المطلوب // ١- توزيع تكاليف المراكز الإدارية والمساعدة وفقاً لطريقة التوزيع التنازلي .

٢- احسب التكلفة الكلية التقديرية لـ (٨٠) خدمة مصرفية والتي يتطلب العمل على الخدمة الواحدة منها في مركز

القروض ٢٢ ساعة، وفي مركز الودائع ١٠ ساعات، علماً بأن التكاليف المباشرة للخدمة الواحدة (٢٧٠٠) دينار .

أ. د. منتظر فاضل سعد
رئيس القسم

مع تمنياتنا لكم بالنجاح
م. حسام أحمد الهاشمي
مدرس المادة

م. خديجة كاظم التميمي
مدرسة المادة



ملاحظة : الاجابة عن اربعة اسئلة فقط لكل سؤال (12,5 درجة)

السؤال الاول : وضح باختصار عناصر النظام المحاسبي للمصارف ؟

السؤال الثاني : فيما يلي البيانات الخاصة بالحساب الجاري المدين لشركة الهدى لدى المصرف الاهلي العراقي - فرع الجزائر خلال شهر حزيران لسنة 2022 علما ان شروط الحساب كالتالي :

1- سقف الحساب الجاري المدين(الحد الاقصى المسموح به) 40000 دينار 2- بمعدل فائدة 6% 3- العمولة 1%

المسحوبات	الايداعات
6/1 شيك بمبلغ 11000 دينار	6/8 شيك بمبلغ؟ دينار
6/5 شيك بمبلغ 8000 دينار	6/13 شيك بمبلغ 9000 دينار
6/19 شيك بمبلغ؟ دينار	6/23 شيك بمبلغ 8000 دينار
6/27 شيك بمبلغ 7000 دينار	
مجموع المسحوبات : 35000 دينار	مجموع الايداعات : 25000 دينار

المطلوب : تصوير بطابفة حساب العميل (شركة الهدى) واحتساب الفائدة والعمولة فقط ؟

السؤال الثالث : في 2022/1/2 بدأ مصرف الاتحاد اعماله برأسمال قدره 25,000,000 دينار حيث تم:

ايداع 25% منه لدى البنك المركزي و ايداع 25% منه لدى الخزينة الرئيسية و تم ايداع المتبقي مناصفة بين مصرف بغداد ومصرف المنصور بعد ذلك بدأ المصرف بالأعمال التالية:

- 1- تم سحب مبلغ قدره 2,500,000 دينار من البنك المركزي وايداعه لدى الخزينة الرئيسية.
- 2- تم تغذية صندوق المدفوعات بمبلغ قدره 1,000,000 دينار من الخزينة الرئيسية.
- 3- تم دفع مبلغ 350,000 دينار عن قيمة ايجار ومبلغ 150,000 دينار عن اجور ماء وكهرباء من صندوق المدفوعات.
- 4- تم اصدار امر تحويل مبلغ قدره 1,500,000 دينار من مصرف بغداد الى البنك المركزي وتم تنفيذ الامر.
- 5- تم شراء اجهزة حاسوب بمبلغ قدره 4000,000 دينار من خلال شيك مسحوب على مصرف بغداد.
- 6- تم شراء اجهزة تكييف بمبلغ قدره 1,250,000 دينار من خلال شيكات مسحوبه على مصرف المنصور.
- 7- تم شراء سيارات بمبلغ قدره 750,000 دينار بشيك مسحوب على مصرف بغداد

مقبوضات الصندوق الفرعي:	9- مدفوعات الصندوق الفرعي
- 250,000 دينار حسابات جارية	- 70,000 دينار كمبيالات مخصومة
- 150,000 دينار ودائع توفير	- 110,000 دينار حسابات جارية
- 50,000 دينار ودائع لأجل	

المطلوب : تثبت القيود المحاسبية اللازمة؟ بالاعتماد على القيود التي تعدها جد رصيد مصرف بغداد ؟

السؤال الرابع : افترض أنك عميل لدى مصرف الرشيد فرع الجامعة و بتاريخ 2022/1/1 قمت بربط وديعة لدى المصرف لمدة ستة أشهر و بقيمة 1,000,000 دينار بفائدة سنوية 5% وتحسب وتضاف كل ثلاث اشهر المطلوب: تثبيت القيود المحاسبية اللازمة على فرض :
 1- دفع الوديعة نقدا ؟ 2- سحب الوديعة نقدا عند الاستحقاق ؟ 3- تحويل المبلغ المستحق الى الحساب الجاري ؟

السؤال الخامس : الجدول التالي يمثل جدول التصفية والذي تم في غرفة المقاصة بالبنك المركزي وذلك يوم 2023/4/25
 البنك المركزي العراقي
 مكتب المقاصة

اليوم : الثلاثاء جدول التصفية النهائية 2023/4/25 الجلسة الاولى

اسم المصرف	الشيكات المسحوبة	الشيكات المستلمة	الرصيد	
	لهم	عليهم	لهم	عليهم
الائتمان العراقي	6000	4000		
الاقتصاد للاستثمار	4000	11000		
الشرق الأوسط	3000	6000		
المنصور للاستثمار	9000	8000		
بغداد التجاري	5000	3000		
الأهلي التجاري	12000	8000		
المتحد للاستثمار	6000	5000		
المجموع	45000	45000		

المطلوب :
 1- اكمل جدول التصفية النهائية بأستخراج الرصيد ؟
 2- قيود اليومية لدى مصرف الائتمان و مصرف الشرق الاوسط ؟
 3- اجراء القيود المحاسبية لدى البنك المركزي ؟

((مع تمنياتنا لكم بالنجاح))

رئيس القسم
 أ.د منتظر فاضل سعد

مدرس المادة
 م.م احمد عبدالكريم الياسين م.د احمد رسن علاوي

المرحلة : الرابعة
المادة : ادارة المخاطر المصرفية
التاريخ : / / 2023
الوقت : ساعتان



جامعة البصرة
كلية الادارة والاقتصاد
قسم العلوم المالية والمصرفية
الدراسات الصباحية والمسائية

أسئلة الامتحان النهائي / الفصل الثاني

الاسم الرقم الشعبة

ملاحظة: الإجابة عن خمسة أسئلة فقط وتوزع الدرجة بالتساوي.

س1- أ- ماهي الجوانب الاساسية لاتفاقية بازل ا ، وماهي الاعتبارات التي تم الاعتماد عليها لتحديد كفاية راس المال في المصارف؟

ب- ما هي الدعائم الاساسية لاتفاقية بازل اا، بينها بالتفصيل؟

س2: ما هي اساليب السيطرة على مخاطر الائتمان خلال مراحل العمليات الائتمانية، بينها بشكل مفصل.

س3: أ- ما هي اهداف ادارة المخاطر المالية؟

ب- ماهي اهم العوامل اللازمة لتحضير البيئة المناسبة والادوات المناسبة لادارة المخاطر؟

س4: هناك العديد من المخاطر التي تواجه العمل المصرفي، اذكر خمسة منها بالتفصيل.

س5: أ- هناك اهمية مضاعفة للحوكمة في المصارف، ماهي بينها؟

ب- تتكون اتفاقية بازل ااا من محاور مهمة، اذكرها بالتفصيل.

س6: هناك عدة تقنيات لادارة المخاطر المالية وتختلف هذه التقنيات باختلاف المخاطر، اذكر هذه الاساليب او التقنيات المستخدمة من قبل المصارف لادارة المخاطر المصرفية بالتفصيل.

مع تمنياتي لكم بالنجاح

أ.د. منتظر فاضل سعد
رئيس القسم

أ.م.فايزة حسن مسجت
مدرس المادة



Name: ----- Number: -----

Answer only four questions

Q1 / Determine if the sentence is true or false, then correct the false .

- 1- You can scan a journal to find an article of interest.
- 2- Every time you write remember capital letters at the end of the sentence.
- 3- My parents always give me good advise .
- 4- Tourist destination mean beaches made by people not by nature .
- 5- One of the attractions in Spain is the Eiffel Tower.
- 6- Asia is a big country.
- 7- Frank Vreede is a twenty -one -year-old German student.
- 8- Mr. Paul Taylor had prepared important speech for encourage trade.

Q2/ Choose the appropriate join tool from the following tools and put it in the blank. (because - and – although – so- unfortunately- before – however – but)

- 1- He decided to have a quick rest ,----- he sat down and shut his eyes.
- 2- Many people think that Sydney is the capital of Australia , ----- Canberra is really the capital.
- 3- The Amazon is the longest river in South America -----, The Nile is the longest river in the world.
- 4- ----- it is very hot in the Sahara during the day. It can be very cold at night.
- 5- It was a comfortable flight ----- his plane arrived on time .
- 6- -----he went to find the driver , he was going through the customs .
- 7- He decided to go straight to the seminar. ----- the meeting was early.
- 8- I was invited to dinner----- I was not hungry.

Q3/ answer just one .

- a- Write an article about Singapore, its location, economy, attractions, history, and official language.
- b- Write an article about Morocco , its location, economy, attractions, history, and official language.
- c- Draw a diagram of France with its location, economy, attractions, natural resources, official languages.

Q4/ Choose the correct answer from the options .

1- He had taken a part time job at the airport .

(a- past simple – b- past perfect , c- present perfect , d- past continuous)

2- Have you ever been mistaken for someone else .

(a- past simple – b- past perfect , c- present perfect , d- past continuous)

3- John Taylor looked around in horror at the children.

(a- past simple – b- past perfect , c- present perfect , d- past continuous)

4- Prefix im- often used with words beginning with ----

(a – r , b- m , c- I , d – m and p)

5- Sometimes you read for every detail , for example study reading .

(a- Skimming b- Scanning c- Intensive reading d- Extensive reading)

6- A synonym (the same meaning) for a border is -----

(a- seashore b- frontier c- noisy d- quiet)

7- The organize the word in order speed from slowest to fastest –

(a-Bicycle – plane – car

b- car – bicycle – plane

c- plane – car – bicycle

d- bicycle – car – plane)

8- The word (apologized) can be classified the part of speech

(a- noun b- verb c- adverb d – adjective)

Q5/ 1- answer the following :

a- Who are the two people with whom there was mistaken identity on the Paris flight ?

b- Who was supposed to give a speech to encourage trade ?

c- Did the taxi driver speak English?

2-Rearrange the sentences to complete the parts of a free flight to Dubai

g- Frank decided to make as much noise as possible

a- The flight attendant heard the noise and notified the pilot at once

b- He ordered the pilot to pump hot air immediately

c- Frank was working as a baggage handler at Shevelle Airport .

d- When he woke up he was scared because he found the plane took off and the annoying sound of the engines and the weather was very cold.

e- He was loading bags while waiting for a truck, he felt tired , He took a quick rest and closed his eyes.

f- Last Friday night, after an exhausting day in the library.

good luck

**Head of Department
Dr. prof. Muntadher Fadhl Saad**

**Lecturer
Dr. Radi Obaid**

المادة: التدقيق
المرحلة: الرابعة
التاريخ: 12 / 6 / 2023
الزمن: (2) ساعة



أسئلة امتحان الكورس الثاني
الدور الثاني
للعام الدراسي 2022 / 2023

جامعة البصرة
كلية الإدارة والاقتصاد
قسم العلوم المالية والمصرفية
الدراسة المسائية والمسابية

ملاحظة: الإجابة على أربعة أسئلة فقط، أحسن الحظ والاجابة والترتيب

س1/ الاجابة بصح او خطأ مع تصحيح الخطأ ان وجد: (5. 12 درجة)

- 1- يجب ان يوضح التقرير ان الافصاح في القوائم المالية يعتبر كاف ولجميع البيانات الهامة .
- 2- يسهم التعارض في المصالح بين الادارة والمتدقق الى خلق الحاجة الى وظيفة التدقيق .
- 3- من مسؤوليات الادارة اعداد قوائم مالية حثامية سليمة وحالية من الاخطاء .
- 4- ارتباط الدليل بالنشاط الخاضع للتدقيق ليس من العوامل المؤثرة في كفاءة الدلالة .
- 5- في حالة عدم اتفاق المتدقق مع الادارة حول قبول السياسة المحاسبية المختارة او ان طريقة تطبيق هذه السياسة لها تأثير قليل الاهمية في البيانات المالية فانه يعطي رأياً نظيفاً .
- 6- الرقابة المحاسبية هي الخطة التنظيمية وكل الطرق والإجراءات التي تتعلق برفع الكفاءة الإنتاجية وتطبيق السياسات الإدارية بفاعلية

س2/ اجب عن احد الفرعين فقط : (5. 12 درجة)

- أ - عرف ملفات التدقيق وما هي محتوياتها ، ولمن تعود ملكيتها وضحها بالتفصيل ؟
- ب - ماهي المكونات الاساسية لكتابة التقرير ، وضحها بالتفصيل ؟

س3/ اعمل المزاغث التالية بما يناسبها لكل من للأسئلة التالية : (5. 12 درجة)

- 1- ليس من عيوب التدقيق المستمر
- 2- يصدر المتدقق عند افصاح المنشأة في بياناتها المالية عن الأحداث والظروف المثيرة للشك في قدرتها على الاستمرار
- 3- تعزيز نظام الرقابة الداخلية في المصارف يكون من خلال
- 4- اخطاء الحذف المتعمدة تحصل عندما
- 5- من الوسائل المستخدمة للتعرف على قوة ومثانة نظام الرقابة الداخلية هي
- 6- اذا اكتشفت ان ارض المصنع التابعة للشركة مقدمة للمصرف لضمان قرض عالي القيمة والشركة لم تذكر هذه الحقيقة في الملاحظات المرفقة بالقوائم المالية يكون رأيك كمتدقق

مر 4/ عرف خمسا مما يأتي : (12.5 درجة)

نظرية الوكالة في التدقيق ، التدقيق الداخلي، الاخطاء المتكفئة ، البرامج المحددة مقدما ، تقدير المخاطر ، المصادقات ، سجل الملاحظات

مر 5/ اجب عن احد الفرعين التاليين (12.5 درجة) :

أ- كمدقق تم تكليفك من قبل شركة السلام للتدقيق ببلقتها المالية في 31 / 12 / 2019 و خلال مرحلة التخطيط وحدث الاتي :

لم يتم تحليل مصاريف الصيانة والتصلبات بشكل صحيح مما ادى الى جعل بعض المصاريف الابدانية كمصاريف رأسمالية . فضلا عن عدم تكوين محصص نيون مشترك في تحصيلها مما يسبب تضليل كبير في القوائم المالية . وعند بحثك عن الالة لم تسمح الإدارة بأجراء الدراسة التفصيلية لمراجعة حسابات السنة المنتهية في 12/31 . باعتبارك متقفا للحسابات بين نوع الراي الذي تراه مناسباً لتقرير التدقيق وموقع الفقرة التوضيحية .

ب- بافتراض صحة شرح القواعد الاتية بين نوع الخطأ و رأيك الفني المتعايد في الاجراءات التي يتوجب على المحاسب اجراؤها :

25000000 من حد / المكن 25000000 الى حد / المصرف عن صرف مبلغ الصيغة الثورية للمكان والمعدات - توصية التدقيق :	500000 من حد / المصرف 500000 الى حد / الصيغ عن مع سيوه ببيع 500 الف دينار واستم مبلغها شيك والقيمة الشهرية لها 600 الف دينار - توصية التدقيق :	9700000 من حد / المشتريات 9700000 الى حد / الصندوق عن شراء بضاعة من محلات الايجان شك - توصية التدقيق :
--	---	--

لكم ملاك التوضيحة والسبح

أ. د. منتظر فضل سعد
رئيس القسم

م. بل نوري نعم و م. حسام احمد
مترسا المادة

أ. د. محمد السعيد
رئيس القسم

المادة: تقييم قرارات الاستثمار
المرحلة: الرابعة
التاريخ:
الزمن: ساعتان



اسئلة امتحان النهائي
الدور ()
الكورس الثاني
العام الدراسي 2022-2023



جامعة البصرة
كلية الإدارة والاقتصاد
قسم ادارة العلوم المالية والمصرفية
الدراسات الصباحية والمسائية

الاسم: اسم المرحلة: الدراسة:

ملاحظة: الاجابة عن خمسة اسئلة فقط ولكل سؤال 10 درجات.

س1: أ- ما هي اهم اهداف الاستثمار؟ اذكرها بالتفصيل.

ب- للاستثمار انواع متعددة وضحها بالتفصيل.

س2: أ- ما المقصود بدراسة الجدوى وماهي اهمية هذه الدراسة؟

ب- كيف يتم المفاضلة بين المشاريع الاستثمارية، وماهي اهم مراحل اختيار البديل الافضل، وضحها بالتفصيل؟

س3: أ- احسب مكافئ عائد السند لاذن خزينة قيمة السهم فيها(\$10000) وعائد خصم البيع (4%) وعائد خصم الشراء (4.25%) ولفترة استحقاق 90 يوم.

ب- سند قيمته الاسمية (\$1000) قابل للاستدعاء خلال السنوات الخمس الاخيرة بسعر (\$105) ويحمل فائدة نسبتها (12%) تدفع مرة كل ستة اشهر تستحق بعد (15) سنة اشتراه مستثمر بسعر(\$900) ، احسب العائد لموعد الاستدعاء لهذا السند.

س4: أ- اشترى مستثمر سهم من شركة معينة بسعر (\$8.5) وخلال تلك الفترة وزعت الشركة ارباحا بمعدل (10%) وبعدها باع المستثمر السهم بسعر (\$9) فاذا علمت ان القيمة الاسمية للسهم هي(\$6) احسب العائد لفترة اقتناء هذا السهم.

ب- جد نصيب السهم الواحد من الارباح الموزعة لاحدى الشركات التي بلغ صافي ارباحها لهذا العام(\$50000) في حين كانت ارباح الاسهم الممتازة (\$5000) وعدد الاسهم العادية (100000) سهم وزعت الشركة (20%) من ارباحها من الاسهم العادية.

س5: أ- ما المقصود بالمخاطر المنتظمة وماهي اهم عواملها ، وضح ذلك بالتفصيل؟

ب- ما هو معامل بيتا، ولمن يستخدم وكيف يفسر معامل بيتا العلاقة بين تغيرات عائد الشركة وعائد السوق؟

س6: أ- وضح بالتفصيل مستويات الكفاءة في سوق رأس المال بالنسبة للمستثمر.

ب- ما هي اهم استراتيجيات الاستثمار ، وضحها بالتفصيل؟

مع تمنياتي لكم بالنجاح

أ.د. منتظر فاضل سعد
رئيس القسم ومدرس المادة

م.م. عذراء جاسب عبادي
مدرس المادة

المادة: المحاسبة الإدارية
المرحلة: الرابعة
التاريخ: 2023 / /
الزمن: 3 ساعات



أسئلة الامتحان النهائي الدور ()
الكورس الثاني
للعام الدراسي 2023/2022

جامعة البصرة
كلية الإدارة والاقتصاد
قسم العلوم المالية والمصرفية
الدراسة الصباحية المسائية

ملاحظة: الاجابة عن اربع اسئلة فقط، توزع الدرجات بالتساوي

س1/ اجب بصح او خطأ مع تصحيح الخطأ ان وجد (الاجابة عن خمس فقط)

- 1- أن دور المحاسب الاداري توفير معلومات ملائمة عن القرارات التي تواجه المدير المالي في الوحدة الاقتصادية.
- 2- تسمى التكاليف غير الملائمة بالتكاليف الغارقة او المطمورة، وهي التكاليف لاتختلف من بديل إلى اخر.
- 3- جميع التكاليف الثابتة هي تكاليف غارقة وغير ملائمة في القرارات قصيرة الاجل.
- 4- التكاليف الملائمة هي تكاليف نقدية وغير نقدية (الاندثارات) ومستقبلية فقط.
- 5- الغرض من اعداد كشف الدخل بالشكل الاجمالي لتوضيح مدى مساهمة ربحية كل قسم من اقسام الشركة في الربحية الكلية للشركة .
- 6- يقوم التحليل التفاضلي لاتخاذ القرارات قصيرة الاجل على مبدأ مقارنة نسبة عائد المساهمة مع التكاليف التي يمكن تجنبها.

س12/ تقوم شركة الزنبقة لصناعة المعجنات بانتاج الكيك الذي يحقق مبيعات سنوية قدرها 500,000 وحدة ، وتتحمل تكاليف متغيرة مقدارها 82,500,000 دينار، وقد تبين فيما بعد ان هذا الخط يحقق خسارة مقدارها 5000,000 دينار، علماً ان سعر بيع القطعة كان 300 دينار ، **والمطلوب** : بصفتك محاسباً ادارياً ، هل تتصح مدير الشركة باستبعاد الخط في ظل الافتراضات الاتية:

1. ان استبعاد الخط الانتاجي سيؤدي الى توفير في التكاليف الثابتة بمقدار 51,500,000 دينار ؟
2. ان استبعاد الخط الانتاجي سيؤدي الى توفير في التكاليف الثابتة بمقدار 51,500,000 دينار ، وبنفس الوقت يمكن تأجير الطاقة المتاحة للخط الانتاجي الى الغير بمبلغ سنوي مقداره 25,000,000 دينار؟

س3/ تنتج شركة XYZ منتج معين ويدخل ضمن هذا المنتج الجزء A وتقدر الشركة احتياجاتها للعام القادم 100000 وحدة وتقوم الشركة حالياً بصناعة هذا الجزء وقد توفرت لديك البيانات التالية من سجلات الشركة والتي تتعلق بانتاج ذلك الجزء:

البيان	كلفة الوحدة الواحد
مواد مباشرة	300
اجور مباشرة	200
ت.ص.غ.م. متغيرة	200
ت.ص.غ.م. ثابتة	350

تفكر الشركة حالياً شراء الجزء A من جهاز خارجي بسعر 800 دينار للوحدة الواحدة، كما أن الشركة تتحمل اجور اخرى اضافية 100 دينار للوحدة الواحد في حالة الشراء من الجهاز الخارجي.

المطلوب: هل تتصح الشركة بالاستمرار في عملية الصنع أو الشراء من المجهز الخارجي علماً أن جميع التكاليف سوف لن تزداد في العام المقبل بأستثناء المواد المباشرة سوف تزداد بمقدار 25%. كما أن الشركة سوف توفر 60% من التكاليف الصناعية غير المباشرة الثابتة في حالة الشراء.

س4/ تقوم شركة الاخاء لصناعة الاطارات بانتاج اطارات للدرجات الهوائية بمصانعها، بطاقة فعلية مقدارها (600,000) اطار سنوياً ويقابل ذلك 80% من طاقتها الانتاجية المتاحة وكانت بيانات التكاليف كما يلي:

سعر البيع	50 دينار /وحدة
مواد مباشرة	5 دينار /وحدة
اجور مباشرة	6 دينار /وحدة
ت.ص.غ. م	4,200,000 دينار/ سنوياً (600,000 دينار مها ثابتة)
م. تسويقية وادارية ثابتة	800,000 دينار سنوياً

وعرض احد زبائن الشركة بطلب لشراء (100,000) اطار بسعر (20) دينار للاطار الواحد، علماً ان الشركة تتحمل مصاريف نقل قدرها 140,000 دينار، اذا قبلت هذه الطلبية علماً ان قبول هذه الطلبية لايؤثر على الاسعار السائدة في السوق.

المطلوب: بصفتك محاسباً ادارياً هل يجب قبول الطلبية الخاصة؟ وما هو أثر قبول الطلبية على ربحية الشركة؟

س5/ توفرت لديك البيانات الاتية عن احدى الشركات (شركة الوركاء الصناعية) لعام 2017 والمطلوب اعداد الموازنة التخطيطية للمواد الأولية المطلوبة للأنتاج. عدد الوحدات المطلوب انتاجها في كل فصل 2100، 2920، 3100، 3900، على التوالي، كما بلغت حاجة الوحدة الواحدة من المواد الأولية 10 كغم / بسعر 5 دينار، تعتمد الشركة على سياسة الاحتفاظ بمخزون اخر المدة من المواد الأولية يمثل 20% من حاجة الفصل التالي، فضلاً عن ذلك تعتمد الشركة سياسة تسديد التزاماتها عن مشتريات المواد الأولية 40% من قيمة مشترياتها خلال فصل الشراء و 60% خلال الفصل التالي، علماً أن رصيد الدائنين نهاية عام 2016 بلغ 12000 دينار سيحدد في بداية الفصل الأول من عام 2017 كذلك أن حاجة المواد الأولية المطلوبة للأنتاج خلال عام 2018 قدر بـ 33000 كغم.

مع التمنيات لكم بالموفقية والنجاح

أ. د. منتظر فاضل سعد
رئيس القسم

أ.م.د محمد جاسم محمد
مدرس المادة

م.م شروق خلف لطيف
مدرسة المادة

المرحلة : الرابعة
المادة : المشتقات المالية
التاريخ : / / 2023
الوقت : ساعتان



جامعة البصرة
كلية الإدارة والاقتصاد
قسم العلوم المالية والمصرفية
الدراسات الصباحية و المسائية

أسئلة الامتحان النهائي الكورس الثاني
للعام الدراسي 2022-2023

الاسم الرقم الشعبة

ملاحظة : اجب عن خمسة اسئلة ، توزع الدرجات بالتساوي.

س ١: علل ما يأتي:

- ١- تسمى العقود الآجلة بالعقود الشخصية.
- ٢- تعتبر المشتقات المالية أدوات خارج الميزانية.
- ٣- إن كثيراً من المستثمرين لا يفضلون شراء الأصول مباشرة من السوق الحاضر وإنما شراءها من اسواق المشتقات باستخدام عقود الخيارات.
- ٤- إن عقد الخيار الواحد على الأسهم يغطي (100) سهم، ولكن الأمر يختلف في حالة عقود الخيارات المدرجة على العملات الأجنبية.
- ٥- إن السوق المنظمة التي يتم تداول العقود المستقبلية فيها توفر آلية عن طريق بيت التسوية تلزم فيها طرفي العقد بإيداع نسبة معينة من القيمة الإجمالية من العقد.

س ٢: أ- وضح المقصود بسعر التنفيذ ؟ وهل هو ثابت؟ وكيف يمكن الاستفادة منه في تحديد نوع الخيار؟

ب- اذكر اهم آراء المؤيدين والمعارضين لاستخدام أدوات المشتقات المالية.

س ٣: عرف عقود المبادلات؟ موضحاً أهم عناصرها؟ مع بيان أهم أسباب استخدام هذه العقود.

س ٤: بين أهم أهداف الاستثمار بالمشتقات المالية، مع توضيح لهذه الأهداف بالتفصيل.

س ٥: أ- أذكر أهم أوجه الشبه والاختلاف بين الخيارات والأسهم.

ب- أحسب القيمة الذاتية لخيار البيع لسهم IBM إذا كان سعر التنفيذ 130 , 140 , 150 دولاراً وكان سعر السهم السوقي 140 دولاراً، مع تفسير النتائج.

س ٦: أ- عرف العقد المستقبلي، مع بيان أهم شروطه.

ب- اشترى احمد خيار شراء على مؤشر (S&P 500) بسعر تنفيذ شهر أيار 1350 بعلاوة قدرها (7) دولارات للوحدة الواحدة من المؤشر إذا كان مضاعف المؤشر يعادل (250) وسعر الإغلاق لشهر أيار هو 1425، ما هو صافي ربح / خسارة أحمد ؟

أرجو لكم التوفيق

أ.د. منتظر فاضل سعد
رئيس القسم

أ.م. د. مهدي صالح حنوش
مدرس المادة